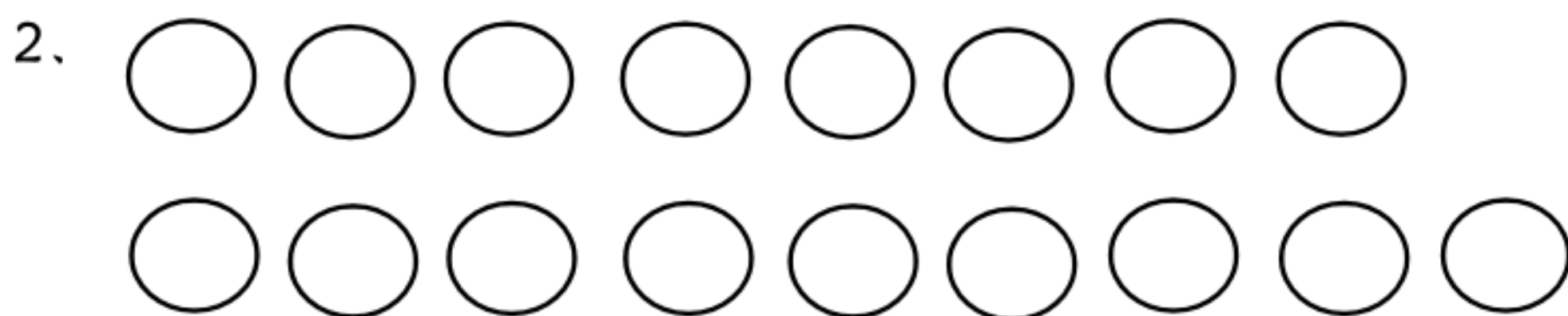


一年级下 1.1 买铅笔课时练

一、数一数，算一算，圈一圈。



$$15 - 9 = \square$$



$$17 - 9 = \square$$

二、比一比，看谁先到终点。



三、解决问题。

一共有 16 只兔。一个笼子里装 9 只，另一个笼子里装几只？

答案： 一、 1、 6 2、 8

二、 1、 5 11 15 6

2、 8 12 3 11


三、 $16-9=7$ (只)

一年级下 1.2 捉迷藏课时练

一、数一数，算一算，圈一圈。



$16 - 8 =$



$14 - 8 =$

二、解决问题。

1、有 14 人乘车去爬山。已经坐了 9 人，还有多少人没上车？

2、一共有 13 只兔子。右边有 8 只，左边有几只？

3、树上共有 15 个苹果，小猴摘去 8 个，还剩几个苹果？

答案

一、 1、 8 2、 6

二、 1、 $14-9=5$ (人)

2、 $13-8=5$ (只)

3、 $15-8=7$ (个)

一年级下 1.3 快乐的小鸭课时练

一、我是小法官。(对的打"√", 错的打"×")

1、退位减法只能用凑十法计算。

()

2、 $7+9$ 不能用凑十法计算。

()

3、口算 $16-8$, 可以从 16 开始一个一个地减, 减八次等于 8。

()


4、 $18-9=16-8$ 。


()

二、数一数, 算一算, 圈一圈。

1、 $15-7=$



2、 $14-6=$



三、解决问题。

1、图书柜有 15 本书, 借走 7 本, 还剩多少本?

2、树上原有 11 只猴子, 下去了 6 只, 树上还剩几只猴?

答案

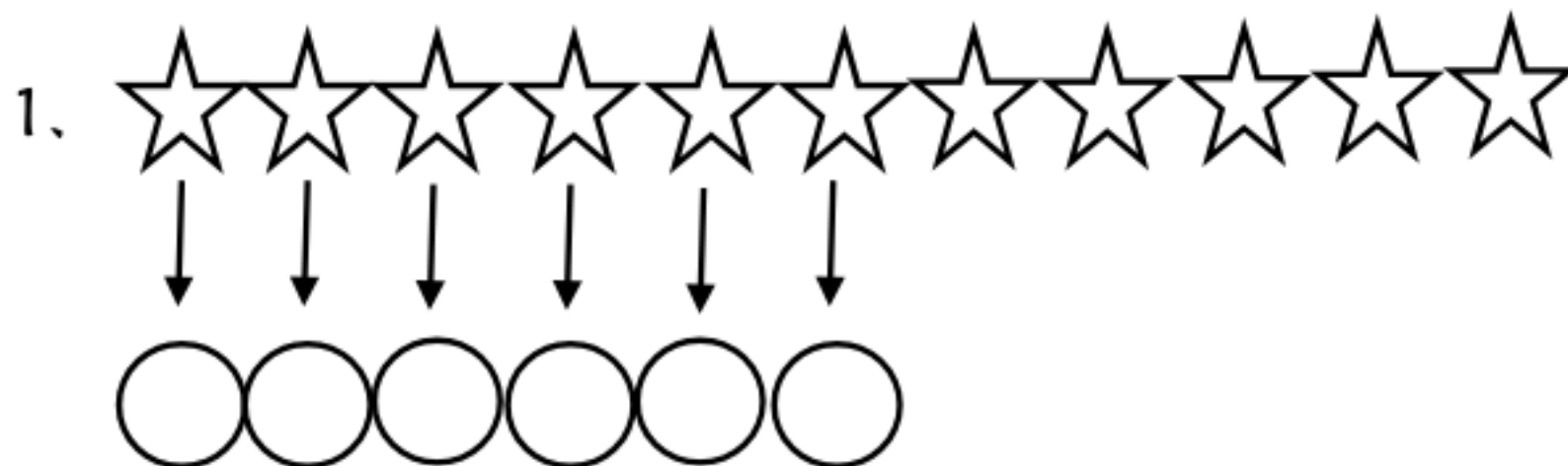
一、 1、 × 2、 × 3、 √ 4、 ×

二、 1、 8 2、 8

三、 1、 $15-7=8$ 2、 $11-6=5$

一年级下 1.4 开会啦课时练

一、比一比，算一算。



$$11-6= \square$$



$$13-7= \square$$

二、看图列式计算。



11 个

$$\square \bigcirc \square = \square$$

三、解决问题。

一 (2) 班的体育小组有 14 个小朋友。





1、每人一个足球还缺几个足球？

2、每人一个篮球，还缺几个篮球？

答案

一、1、 $11-6=5$

2、 $13-7=6$

二、 $11-6=5$ (个)

三、1、 $14-7=7$ (个)

2、 $14-5=9$ (个)

一年级下 1.5 跳伞表演课时练

一、我是小法官。(对的打"√", 错的打"×".)

1、13 比 7 少 6。 ()

2、因为 13 能分成 10 和 3, 所以 $13-3=10$ 。 ()

3、计算 $12-5$ 时, 想几加 5 得 12。 ()

4、南南今年 8 岁, 西西明年 11 岁, 西西比南南大 3 岁。 ()

二、按要求排一排。

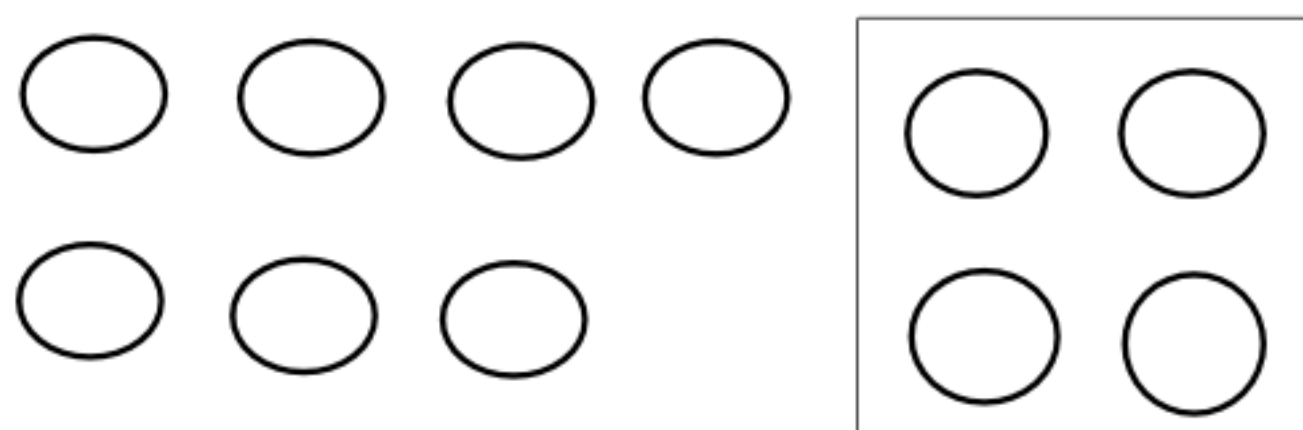
1、 $12-8$ $15-9$ $12-7$ $13-4$ $15-8$

() < () < () < () < ()

2、 $7+5$ $13-4$ $12-6$ $14-7$ $11-3$

() < () < () < () < ()

三、看图列式计算。



$$\square \bigcirc \square = \square \quad (\text{个})$$

四、一本故事书 15 元, 一支钢笔 7 元, 一本笔记本 4 元。

1、一本故事书比一支钢笔贵多少元?

2、一本故事书比一本笔记本贵多少元?

答案

一、 1、 × 2、 √ 3、 √ 4、 ×

二、 1、 $(12-8) < (12-7) < (15-9) < (15-8) < (13-4)$

2、 $(12-6) < (14-7) < (11-3) < (13-4) < (7+5)$

三、 $11-7=4$ (个)

四、 1、 $15-7=8$ (元)

2、 $15-4=11$ (元)

二年级下 1.6 美丽的田园课时练

一、在括号里填上合适的数。

$8 + () = 13 \quad 12 - () = 5 \quad () + 5 = 14$

$() + 6 = 14 \quad () - 9 = 8 \quad 6 + () = 12$

二、把下表填完整。

			
原有	14 筐	13 筐	11 筐
卖出	8 筐	5 筐	4 筐
还剩	() 筐	() 筐	() 筐

三、你能选出 3 张卡片写出 4 道算式吗？

4

8

6

12

+

=

+

=

-

=

-

=

四、小朋友赛跑。第一组有 5 人，第二组有 12 人，第三组有 14 人。

1、第一组比第二组少多少人？

2、第三组比第一组多多少人？

答案

一、 5 7 9

8 10 6

二、 6 8 7

三、 $4+6=10$ $4+8=12$

$8-6=2$ $8-4=4$

四、 1、 $12-5=7$ 人 2、 $14-5=9$ 人

一年级下 1.7 做个减法表课时练

一、在 \bigcirc 里填上 ">" "<" 或 "="。

$7+8 \bigcirc 16$

$14-9 \bigcirc 6$

$17-8 \bigcirc 10$

$11-2 \bigcirc 12$

$4+9 \bigcirc 13$

$16-9 \bigcirc 7$

二、括号里最大能填几

$4+(\quad) > 12$

$13-(\quad) > 5$

$4+(\quad) < 13$

$11-(\quad) > 6$

$8+(\quad) < 16$

$9+(\quad) < 12$

答案

一、 < > <
 < = =

二、 9 7 8
 4 7 2

二年级下 2.1 看一看 (一) 课时练

一、我是小法官。(对的打“√”，错的打“×”)

1、



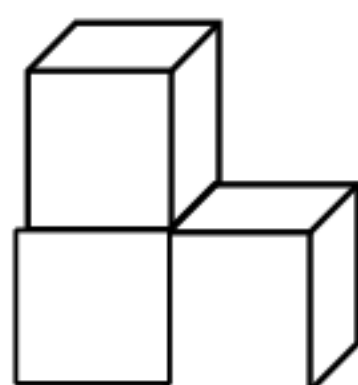
这是小军在动物园给大家
拍的照片。小军拍照时，站
在大象的后面。()

2、



这是小文看到的汽车。小文
站在汽车的前面。()

二、填一填，下面的图形是谁看到的？



()



()


答案

一、1、×；2、×。


二、兔 公鸡

一年级下 2.2 看一看 2 课时练


一、下面四幅图分别是谁看到的，用线连起来。



二、老鼠、蝴蝶、小鸟能看到猪的哪个部位？请用线连一连。




三、下面各图分别是谁看到的？



答案：略

一年级下 3.1 数花生课时练

一、我会做。



(1) 苹果有 () 个, 桃子有 () 个。

(2) 上图中一共有 () 个水果。

二、数星星。



我可以 1 颗 1 颗地数, 一共有 () 颗五角星; 我还可以 () 颗 () 颗地数, 一共有 () 颗五角星; 我还可以 () 颗 () 颗地数, 一共有 () 颗五角星; 我认为 () 颗 () 颗地数的方法最好。

三、在下面各数后面连续数出 5 个数来。

1、 38 _____、 _____、 _____、 _____、 _____、 _____。

2、 68 _____、 _____、 _____、 _____、 _____、 _____。

参考答案：一、1、12，10；2、22.

二、40；2、2、40；5、5、40；5、5.

三、1、39、40、41、42、43；

2、69、70、71、72、73.

一年级下 3.2 数一数课时练

一、圈一圈，填一填。

一共有（ ）个 ○ 。

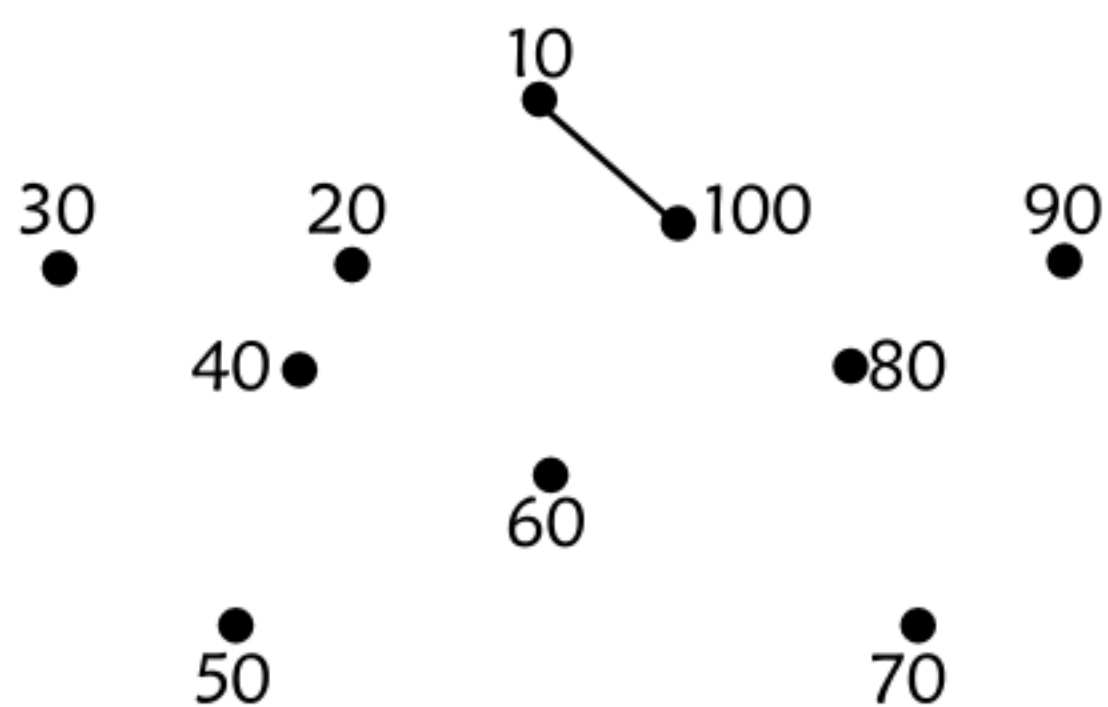


二、小调查。

1、数一数，我们班有（ ）位同学，（ ）张桌子，（ ）张凳子，其中男生有（ ）人，女生有（ ）人。

2、我们班7岁的同学有（ ）人，8岁的同学有（ ）人。

三、按下列各点按点从小到大的顺序连接起来，并看一看是什么图形。



参考答案：

一、45；二、1、略；2、略。三，五角星。

一年级下 3.3 数豆子课时练

一、我会填。

1、100 里面有 () 个十或 () 个一。

2、一个数，从右边起，第一位是 () 位，第二位是 () 位，第三位是 () 位。

3、6 个十和 3 个一是 ()。

4、98 是 () 位数，8 在 () 位上，表示 () 个 ()，9 在 () 位上，表示 () 个 ()。

二、小兔写门牌号。

1、

30

31

2、

50

49

三、解决问题。

12 辆汽车组成一列车队向前行进。从前面数，黑色的奥迪是第 7 辆。从面后数，它是第几辆？

参考答案：一、1、10 100；2、个 十 百；3、63；4、2 个 8
一 十 9 十。 二、1、32 33；2、48 47。三、第六辆。

一年级下 3.4 谁的红果多课时练

一、我是小法官。(对的打“√”，错的打“×”)

1、39 和 43 中间隔了 3 个数。 ()

2、和 49 相邻的两个数是 48 和 50。 ()

3、最小的两位数是 11。 ()


4、最小的一位数比最大的两位数大。 ()

二、分一分。


16、54、91、88、44、

28、53、23、70、61、


19、71、55、39、80



小于 30 的数



大于 30 而小于 60 的数



大于 60 的数

三、按要求写数。

写出三个个位上的数都是 4 的两位数，比一比哪个最大，哪个最小？

参考答案：一、1、 \checkmark ；2、 \checkmark ；3、 \times ；4、 \times 。

二、小于30的数：16 28 23 19；大于30而小于60的数：
54 44 53 55 39；大于60的数：91 88 70 61 71 80；

三、34 44 54 54最大 34最小。

一年级下 3.5 小小养殖场课时练

一、把正确的答案圈起来。

1、比 43 大得多的数。(30,43,65)

2、和 47 差不多的数。(49,67,28)

3、比 99 小一些的数。(90,98,47)

4、比 67 大一些的数。(60,57,87)

二、我是小法官。(对的打“√”，错的打“×”)

鸡 66 只

鸭 24 只

鹅 30 只

1、鸡比鸭多一些。()

2、鸭比鹅少得多。()

3、鸭比鸡少得多。()

三、一个数比 42 少一些，比 38 多一些，这个数可能是多少？(有几个写几个)

参考答案：一、1、65；2、49；3、98；4、87。

二、1、×；2、×；3、√。

三、41、40、39。

一年级下 3.6 做个百数表课时练

一、我会填。

- 1、40 后面的第 7 个数是 ()。
- 2、44 在 () 和 () 的中间；与 39 相邻的两个数分别是 () 和 ()。
- 3、27 后面、29 前面的数是 ()。

二、填一填，涂一涂，圈一圈。

1									10
	12							19	
		23					28		
			34	35	36	37			
			44			47			
			54			57			
			64	65	66	67			
		73					78		
	82							89	
91									100

三、按照上一题，在下面的空格中填上适当的数。

38	

	55	

		79

参考答案：一、1、47；2、43 45；38 40；3、28.

二、略；三、略。

一年级下 4.1 认识图形课时练

一、快乐选一选。(将正确答案的序号填在括号里)

1、下列图形 () 是正方形。



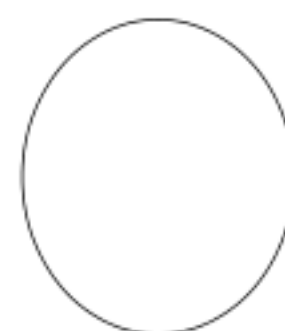
①



②

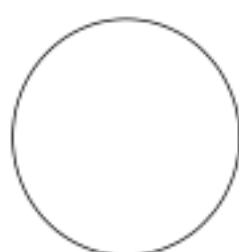


③



④

2、下列图形 () 是圆。



①



②



③

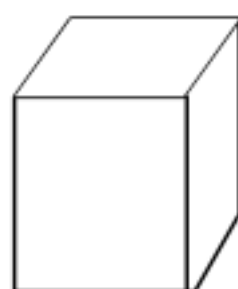


④

3、下列图形 () 是三角形。



①



②



③



④

二、下面的物品是谁拿的?(连一连)

我拿的物品
可以画圆。

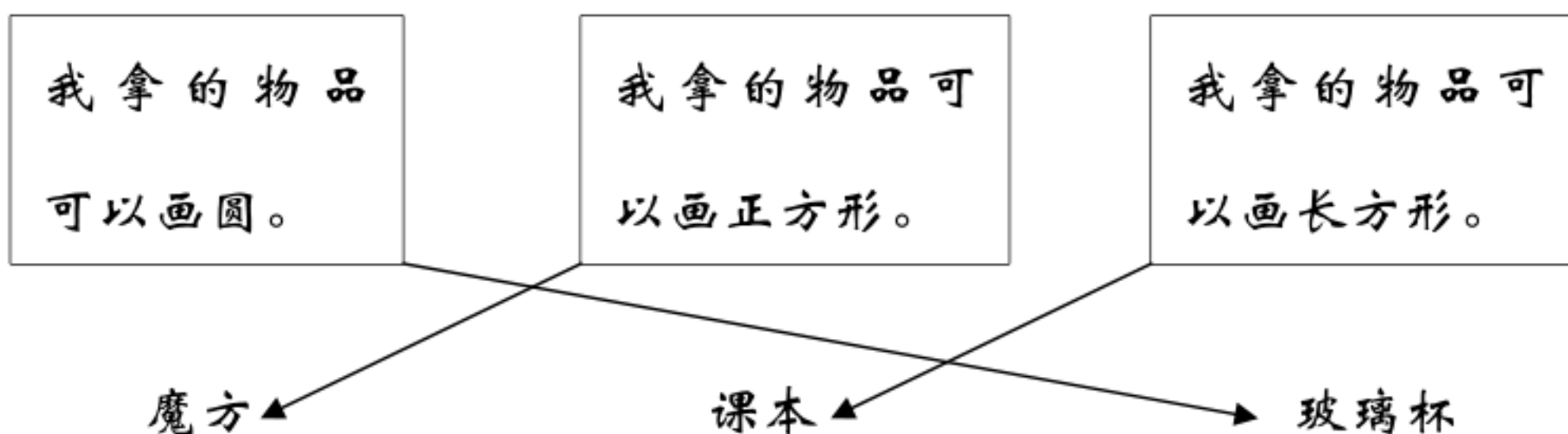
我拿的物品可
以画正方形。

我拿的物品可
以画长方形。

魔方

课本

玻璃杯

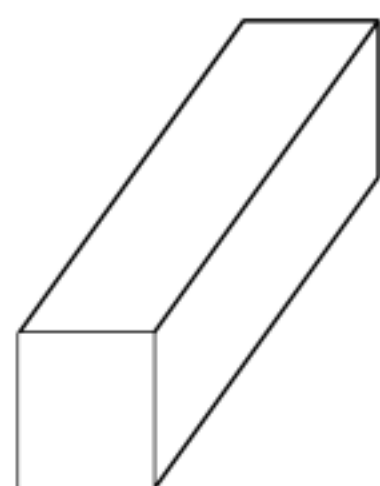


参考答案：一、1、②；2、①；3、④；

二、见上；

一年级下 4.2 动手做 (一) 课时练

一、下面图形的每个面各是什么形状的？





前面和后面是 ()；

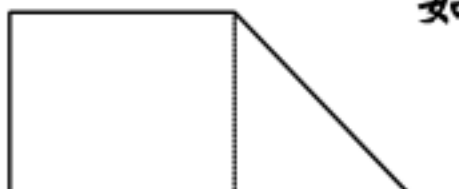
上面和下面是 ()；

左面和右面是 ()。

二、填一填。

1、  如果沿虚线剪开，剪成了 () 个 () 形。

2、  如果沿虚线剪开，剪成了 () 个 () 形。

3、  如果沿虚线剪开，剪成了 () 个 () 形和 () 个 () 形。

三、画一画，分一分。

把一个长方形分成一个正方形和两个长方形。

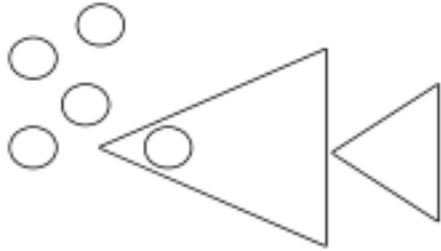


参考答案：一、正方形、长方形、长方形；二、1、3 三角；2、2 三角；3、1 正方形和1 三角形。三、略。

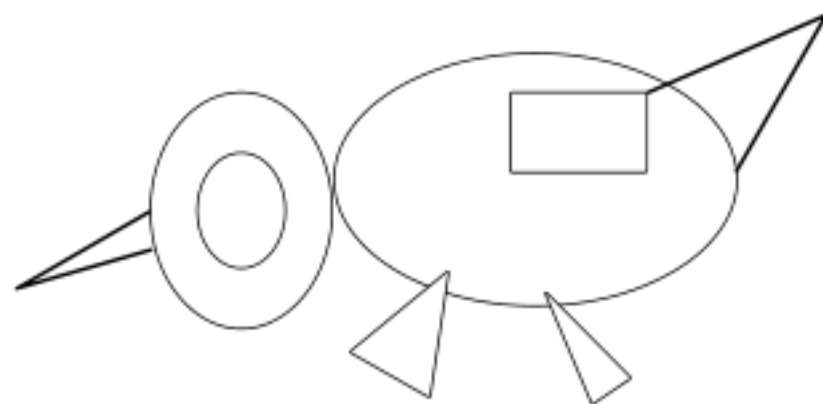
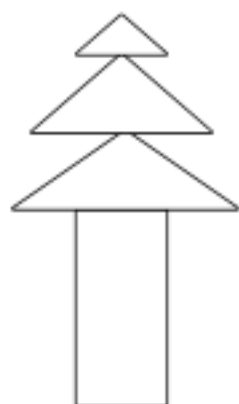
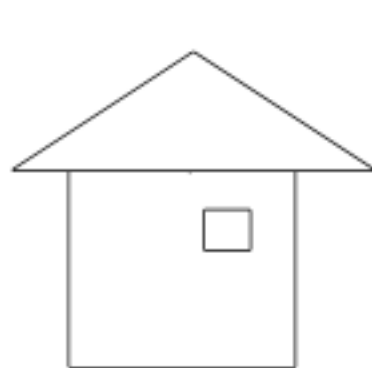
一年级下 4.3 动手做（二）课时练

一、我会填。

1、三角形比正方形少（ ）条边，正方形比三角形多（ ）个角。

2、这个图形像（ ），是由（ ）种图形组成的，（ ）多，（ ）少。

二、说一说，下面所拼图形像什么？再数一数，填一填。



上面图形中，共有（ ）个长方形，（ ）个正方形，（ ）个三角形，（ ）个圆形。（ ）最多，（ ）最少。

三、用七巧板拼一拼并画下来。

1、用两个最小的三角形拼成一个正方形。

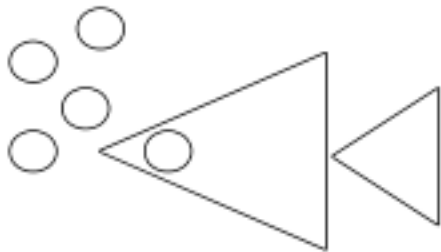
2、用两个最小的三角形加上一个正方形，拼成一个大三角形。

参考答案：一、1、11；2、鱼，2，圆，三角形。二、3,1,8,2.三角形，正方形。三、略。

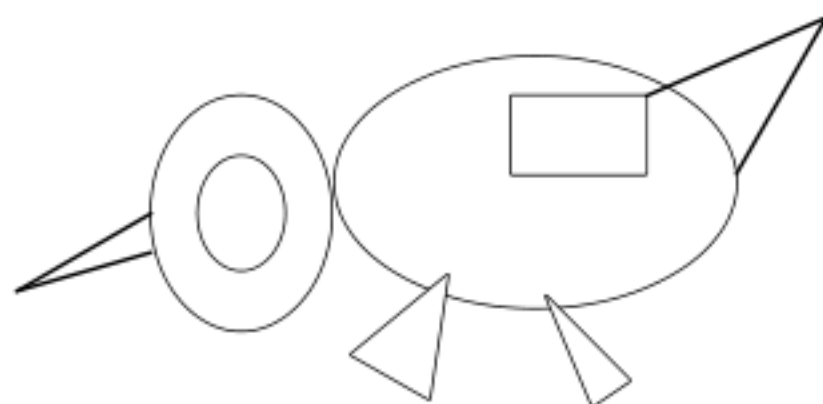
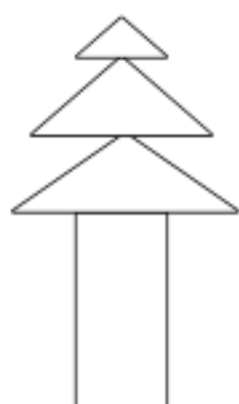
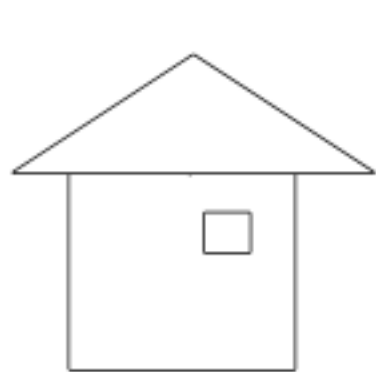
一年级下 4.4 动手做（三）课时练

一、我会填。

1、三角形比正方形少（ ）条边，正方形比三角形多（ ）个角。

2、 这个图形像（ ），是由（ ）种图形组成的，（ ）多，（ ）少。

二、说一说，下面所拼图形像什么？再数一数，填一填。



上面图形中，共有（ ）个长方形，（ ）个正方形，（ ）个三角形，（ ）个圆形。（ ）最多，（ ）最少。

三、用七巧板拼一拼并画下来。

1、用两个最小的三角形拼成一个正方形。

2、用两个最小的三角形加上一个正方形，拼成一个大三角形。

参考答案：一、1、11；2、鱼，2，圆，三角形。二、3,1,8,2.三角形，正方形。三、略。

一年级下 5.1 小兔请客课时练

一、比一比，算一算。

$4+2=$

$4-2=$

$3+6=$

$8-3=$

$40+20=$

$40-20=$

$30+60=$

$80-30=$

$10+20=$

$50-20=$

$60+10=$

$80-40=$

二、在 () 里填上 “+” “-” 或 “=”。

$10 () 50 = 60$

$40 () 50 = 90$

$60 () 30 = 30$

$80 () 30 = 50$

$20 () 20 = 40$

$80 () 60 = 20$

$70 () 30 = 40$

$30 () 50 = 80$

三、将每次口算的结果填在后面的括号内。

$$40 \xrightarrow{+50} () \xrightarrow{-20} () \xrightarrow{+30} ()$$

$$40 \xrightarrow{-20} () \xrightarrow{+30} () \xrightarrow{+60} ()$$

四、解决问题。

1、妈妈今年 40 岁，阳阳今年 10 岁，再过三年，妈妈和阳阳相差多少岁？

2、小白和小花一共钓了 60 条鱼，小花钓了 20 条鱼。小白钓了多少条鱼？

参考答案: 一、6 2 9 5 60 20 90 50 30 30 70 40; 二、+ + - - + - -
+; 三、90 70 100 20 30 90; 四、1、30; 2、40。

一年级下 5.2 采松果课时练

一、想一想，填一填。

$46+3=(\quad)$

$89-9=(\quad)$

想：先算 $6+3=(\quad)$

想：先算 $(\quad)-9=$

(\quad)

再算 $40+(\quad)=(\quad)$

再算 $80+(\quad)=$

(\quad)

二、我是小法官。(对的打“√”，错的打“X”)

1、在 46,35,69,68 这四个数中，35 最小。 (\quad)

2、30 与 4 的和是 34，再加上 5 是 49。 (\quad)

3、 $43+3>$ $25+2$ 。

(\quad)

4、 35 与 4 的 和 是 39,39 与 1 的 和 是 40。

(\quad)

三、解决问题。

1、从飞机场飞走 5 架飞机，还剩 23 架飞机，飞机场原来有多少架飞机？

2、小明和小红共有 28 张邮票，小明有 8 张邮票，小红有多少张邮票？

参考答案：一、49 9 9 49；80 9 0 0 80；

二、1、 \checkmark ；2、X；3、 \checkmark ；4、 \checkmark ；

三、1、28；2、20。

一年级下 5.3 青蛙吃虫子课时练

一、在括号里填上“>”“<”或“=”。

1、 $37+30$ () 68 $43+10$ () $73-40$ $36+40$ () $78-10$

2、 28 () $68-50$ $29+40$ () $68+10$ $80-20$ () $65-5$

3、 23 () $96-70$ $33+20$ () $74-20$ $16+70$ () $19+60$


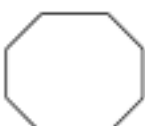
二、算式大组合。(每次选两个数，组成四道算式)

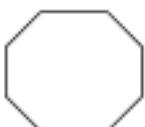

37

50

6

20

1、()  () = () ( () =
()

2、()  () = () ( () =
()

三、解决问题。

一个两位数，它十位上的数字是79与70的差，个位上的数字是44与40的差，你知道这个两位数是多少吗？

参考答案：一、1、 $< > >$ ；2、 $> < =$ ；3、 $< < >$ 。

二、略；

三、94。

一年级下 5.4 拔萝卜课时练

一、快来选一选。(将正确答案的序号填在括号里)

1、5个一，3个十和4个十，2个一相加等于()。

①67 ②77 ③57

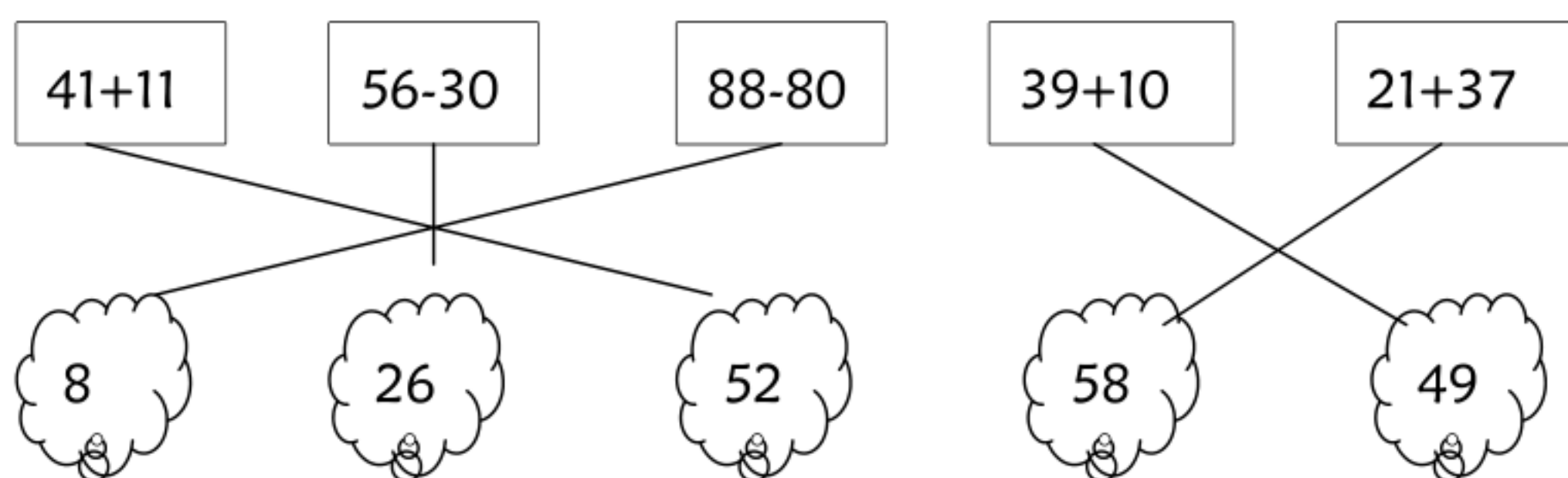
2、下列算式中得数为32的是()。

①15+14 ②30+12 ③21+11

3、下列加法算式中，()的结果最大。

①25+73 ② 0+99 ③68+21

二、连一连。



三、解决问题。

1、小恐龙的身高13米，大恐龙的身高25米，大恐龙和小恐龙一共有多高？

2、篮球45元，足球32元，篮球和足球我各买一个，一共要多少钱？

我有80元钱，够不够？

参考答案：一、1、②；2、③；3、②。二、见上；

三、1、 $13+25=38$ （米）；2、 $45+32=77$ （元） $77<80$ 够。

一年级下 5.5 收玉米课时练

一、连一连。

$78-66$

$77-55$

$76-24$

$49-28$

$47-22$

$47-20$

21

52

27

22

25

12

二、在 () 里填上 “+”、“-”。

$1、54 () 30 = 24$

$20 () 15 = 35$

$78 () 16 = 62$

$2、56 () 23 = 33$

$43 () 16 = 59$

$75 () 33 = 42$

三、解决问题。

1、小猴收玉米。小猴收了 36 根，大猴收了 48 根。大猴比小猴多收多少根玉米？


2、小猴原来有 55 个花生，吃掉了 24 个，还剩多少个？

参考答案：一、略；二、1、- + -；2、- + -；

三、1、 $48-36=12$ （根）；2、 $55-24=31$ （个）

一年级下 5.6 回收废品课时练。

一、画一画，算一算。

1、在第一行画 ，比第二行少 4 个。



$$\square \bigcirc \square = \square$$

2、在第二行画 ，比第一行多 5 个。



$$\square \bigcirc \square = \square$$

二、看图列式计算。

1、鸽： 43 只

14 只

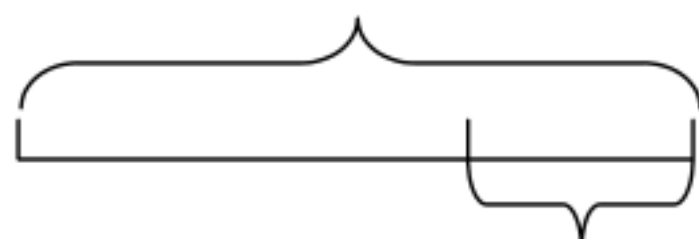


鸭：

? 只

$$\square \bigcirc \square = \square$$

2、苹果：



68 个

梨：



32 个

? 个

$$\square \bigcirc \square = \square$$

三、解决问题。

1、小鹿摘了 34 个桃子，小猴摘了 47 个桃子，小鹿比小猴少摘了多少个？

2、科技组有 30 人，美术组有 48 人，美术组比科技组多多少人？

参考答案：一、略；

二、1、 $43+14=57$ （只）；

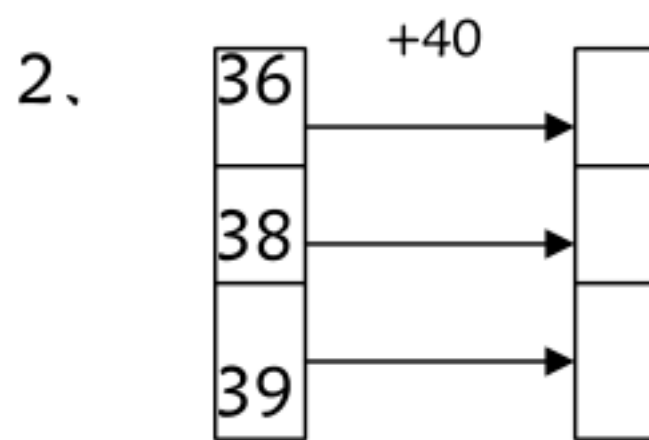
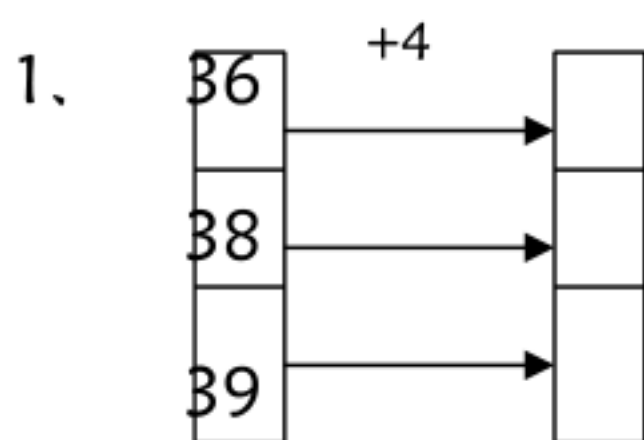
2、 $68-32=36$ （个）

三、1、 $47-34=13$ （个）

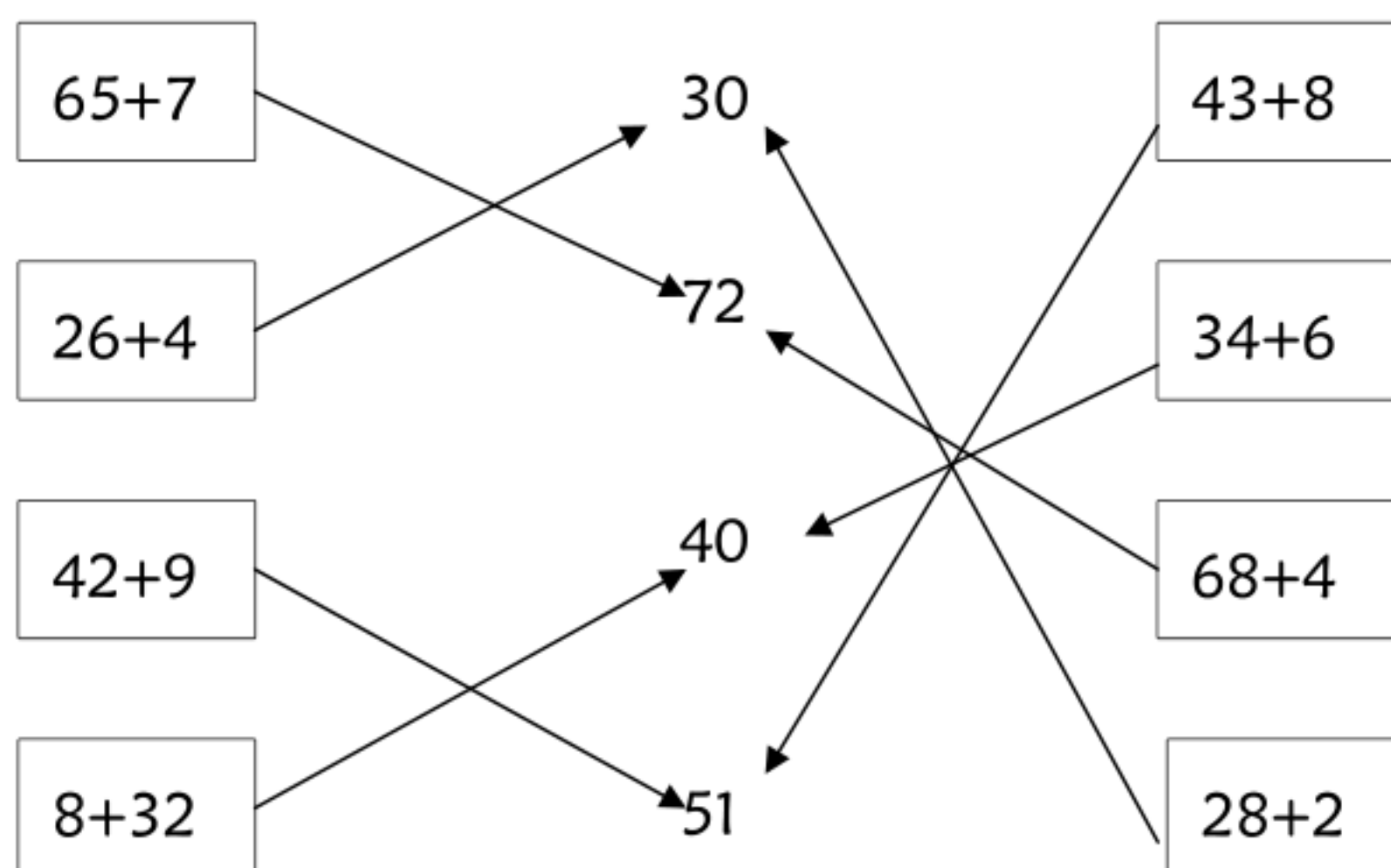
2、 $48-30=18$ （人）

一年级下 6.1 图书馆课时练

一、算一算，再看看了什么？



二、连一连。



三、解决问题。

1、一只小猴 26 元，一只小猫 9 元。买一只小猴和一只小猫，一共多少元？

2、老师已经收了 29 本作业，再交 8 本就齐了，这个班一共有多少名学生？

参考答案：一、1、40、42、43；2、76、78、79

二、见上；三、1、 $26+9=35$ （元）；2、 $29+8=37$ （本）

一年级下 6.2 摘苹果课时练

一、算一算参加兴趣小组的人数。(单位:人)

	美术组	声乐组	书法组	象棋组	舞蹈组
男生	14	25	26	22	36
女生	18	19	35	18	15
合计					

二、列竖式计算。

$73+19=$

$24+36=$

$37+45=$

$55+28=$

三、解决问题。小敏有 39 张画片,冬冬有 24 张画片。

1、小敏和冬冬一共有多少张画片?

2、小敏比冬冬多多少张画片?

参考答案：一、32、44、61、40、51。

二、92、60、82、83。

三、1、 $39+24=63$ （张） 2、 $39-24=15$ （张）

一年级下 6.3 阅览室课时练

一、连线。

$6+58$

$50-9$

$46-6$

$47-8$

39

41

64

40

二、在 () 里填上 “>” “<” 或 “=”。

$31-3 () 30$

$55-8 () 45$

$82-9 () 70$

$68-2 () 70$

三、列竖式计算。

$52-9=$

$37-8=$

$85-6=$

$60-7=$

四、解决问题。

小兔原来有 65 根萝卜，运走了 8 根。还剩多少根萝卜？

参考答案：一、略；二、< > > <；三、43、29、79、53。

四、 $65-8=57$ （根）

一年级下 6.4 跳绳课时练

一、快来选一选。(将正确答案的序号填在括号里)

1、树上有 53 个梨子，摘掉了 29 个，还剩多少个？列式为 ()。

① $53-29=24$ (个)

② $53+29=82$ (个)

2、一个玩偶玩具 58 元钱，一本《大耳朵图图》28 元钱，妈妈买这两样花 ()。

① 30 元

② 86 元

③ 72 元

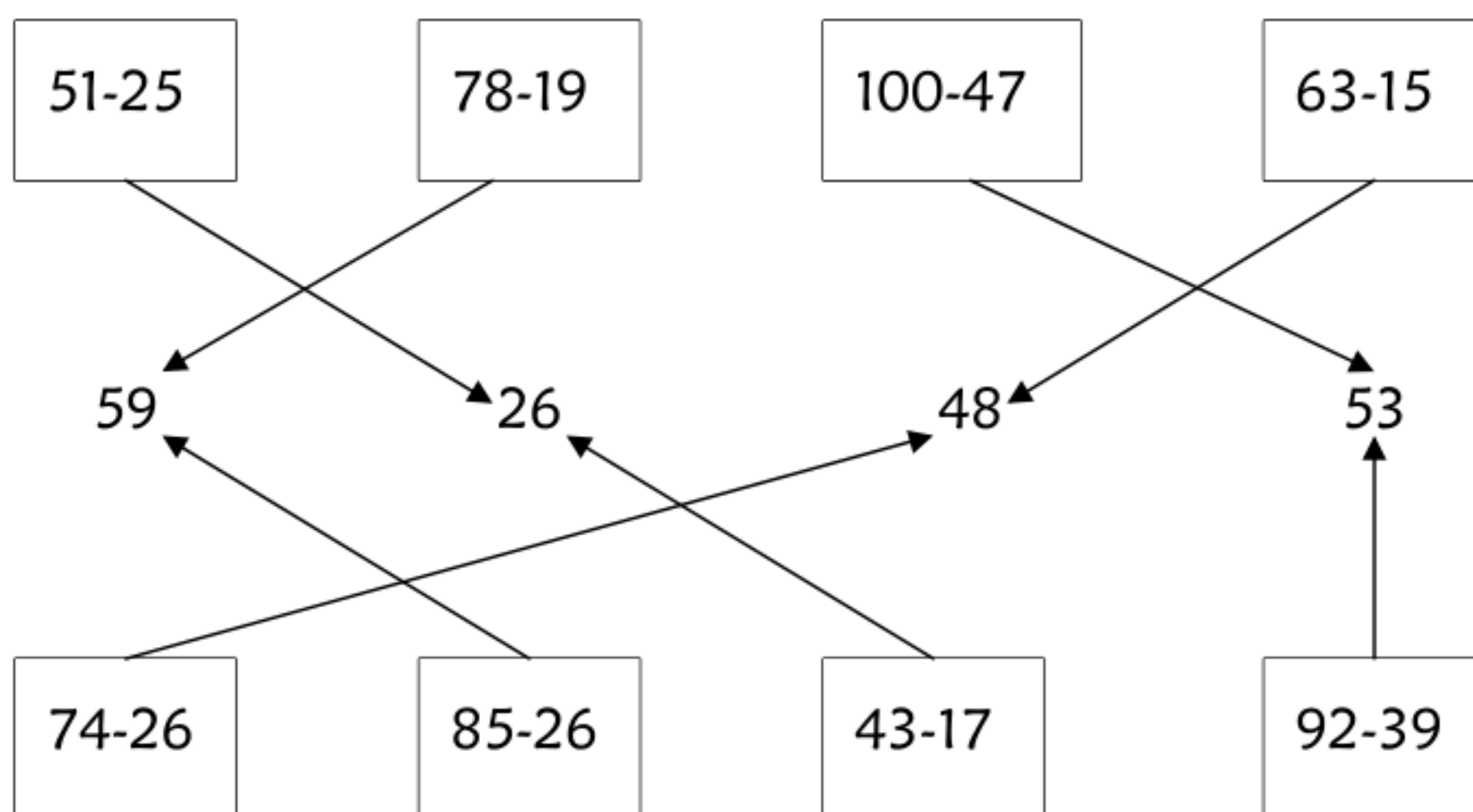
3、小伟班有 66 本故事书，小花班的故事书比小伟班少 18 本，小花班有 ()。

① 58 本

② 84 本

③ 48 本

二、连一连。



三、列竖式计算。

$43-5=$

$84-38=$

$67-59=$

$100-24=$

参考答案：一、1、① $53-29=24$ （个）；2、②86元；3、③48本

二、见上；

三、38、46、8、76。

bzxz.net

免费文档下载