

四 年级 数学 学科期末考查卷

(总分 100 分, 完卷时间 70 分钟)

一、注意审题, 细心计算。30 分

1. 直接写出得数。

$3.6+0.8=$

$50\times 60=$

$8.5-5=$

$270\div 90=$

$0\div 28=$

$268\div 10=$

$4.85\times 100=$

$12.5-8.4=$

$2.5+0.03=$

$180\div 3=$

$29+120+71=$

$4\times 5\div 10=$

2. 怎样算简便就怎样算。

$90-60\div 15$

$68+10\times (15-9)$

$274-(18+74)$

$46\times 97+46\times 3$

$0.27+3.7+1.73+5.3$

$2500\div [74-(59-10)]$

二、冷静思考, 正确填空。24 分 (1~6 题每题 2 分, 其余每空 2 分)

1. 0.68 的计数单位是(), 它里面有()个这样的单位。

2. 4.05 读作(); 八十点八四写作()。

3. 把下列各小数用“>”连接起来。

$5.022 \quad 5.2 \quad 5.3 \quad 5.202$

4. 把 6 改写成两位小数是(); 把 20.20 化简后是()。

5. 大于 0.5 又小于 0.8 的一位小数有()个。

6. 把 20.3 的小数点向左移动一位是();

把 1.7 扩大到原数的 1000 倍是()。

7. $\angle 1$, $\angle 2$, $\angle 3$ 分别是一个三角形的三个内角。

$\angle 1=50^\circ$, $\angle 2=45^\circ$, $\angle 3=()$, 这是一个()三角形。

8. 根据 $132 \div 11 = 12$, 写出一道乘法算式是 (), 另一道除法算式是 ()。

9. 根据 $64 - 30 = 34$, $34 \times 20 = 680$, $680 + 13 = 693$, 组成一道综合算式是 ()。

10. 把一个等边三角形沿一条边上的高剪成两个三角形 (如下图)。

每个直角三角形内角和是 () 度,

其中最小的一个内角是 () 度。



三、反复比较, 慎重选择。(选择正确答案的序号填入括号内) 12 分

1. 0 不能作 ()。

① 被除数

② 除数

③ 商

2. 下面算式得数是 9 的是 ()。

① $9 \times 18 \div 9$

② $2 + 1 \times 3$

③ $3 \times 4 \div 3 \times 4$

3. 下面各组小棒中, 不能拼成三角形的是 ()。(单位厘米)

① 6、6、6

② 8、1、6

③ 3、4、5

4. 有两个三角形, 都是用 4 厘米、5 厘米、6 厘米的小棒摆成的。关于这两个三角形, 下面说法正确的是 ()。

① 周长相同, 面积不等

② 形状不同, 周长相等

③ 形状相同, 面积相等

5. 笼子里用若干只鸡和兔, 上面看有 40 个头, 下面看有 100 只脚。下面说法正确的是 ()

① 笼子里有 10 只兔

② 笼子里有 10 只鸡

③ 笼子里有 20 只兔

6. 下面问题中, 不能用 4×9 这个算式解决的是 ()。

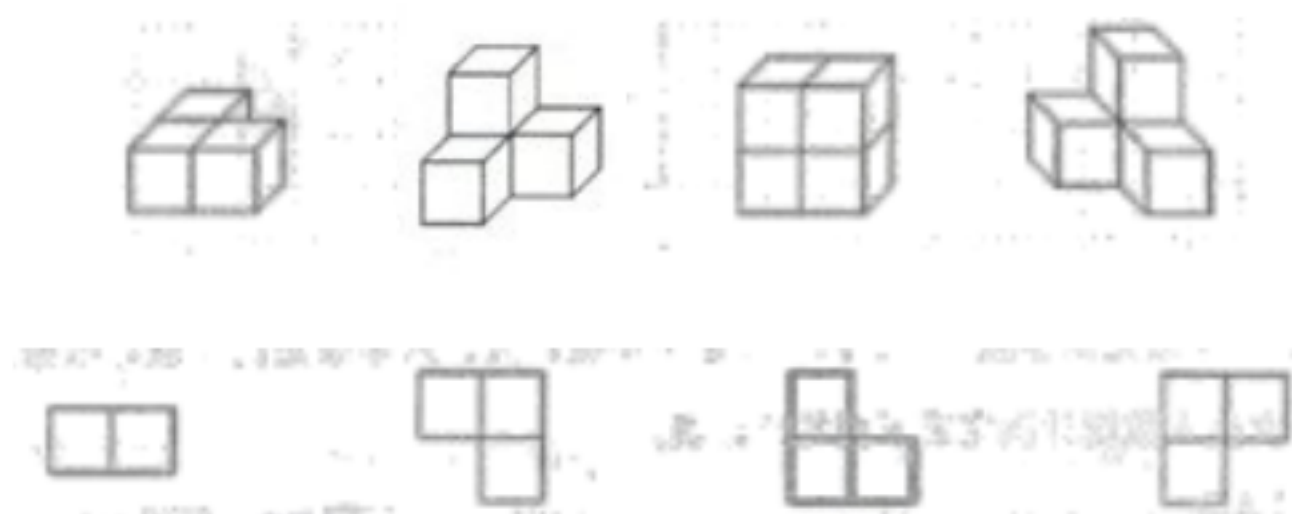
① 每辆车 9 元, 4 辆玩具车一共多少元?

② 明明有 4 辆玩具车, 东东有 9 辆, 他们共多少辆玩具车?

③ 明明有 4 辆玩具车, 东东的辆数是明明的 9 倍, 东东有多少辆玩具车?

四、观察分析, 操作实践。10 分

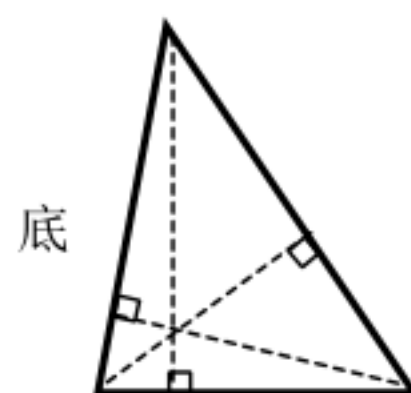
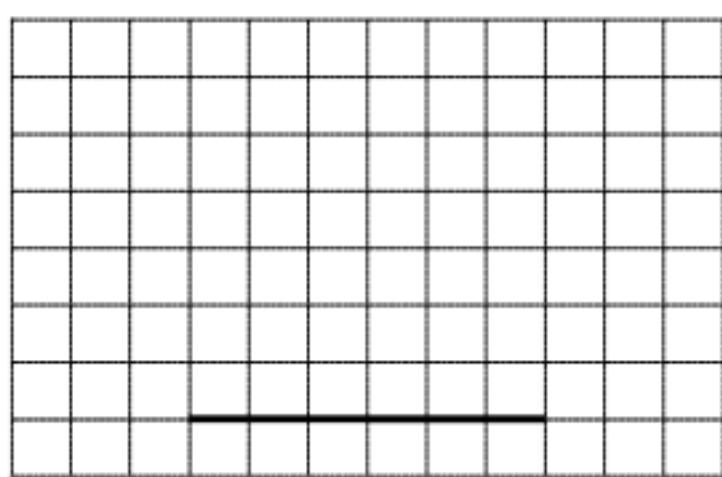
1. 从上面看上排的物体分别是什么形状？请连一连。



2. 画出图②的另一半，使它成为对称图形。



3. 画一画。



①以上图中的线段为三角形的一边，画出一个等腰三角形。

②把上图三角形中指定底边上的高描成实线。

五、活用知识，解决问题。24 分

(1) 100 个凤尾夹共 1 千克，那么 1 个这样的凤尾夹有多重？

(2) 妈妈带了 100 元钱，买香蕉花了 15.8 元，买苹果花了 14.2 元，还剩多少钱？

(3) 一张课桌 148 元，一把椅子 52 元。2400 元可以买多少套这样的课桌椅？

(4) 左图是实验小学参加课外活动的情况统计图。



①图中白色直条表示()人数；
纵轴上每格代表()人。

②每个小组平均有女生多少人？

(列式解答)

(5) 老人活动中心在“重阳节”组织 282 名老人到福州“三坊七巷”旅游，准备了 5 辆大客车和 6 辆小面包车，每辆面包车都坐了 7 人，剩下的都去坐大客车，坐大客车的有多少人？

bzxz.net

免费文档下载