

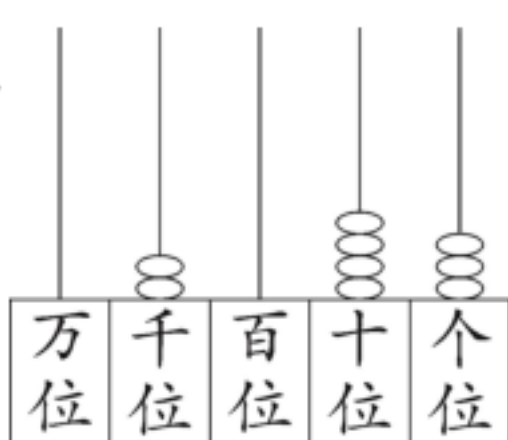
期末综合复习

复习时间:60 分钟 满分:100 分 书写(3 分)

书写	知识技能					生活运用	得分	附加题
	一	二	三	四	五	六		

知识技能 (74 分)

一、填一填。(第 1~6 题每空 1 分,第 7~10 题每空 2 分,共 23 分)

1.  这个数写作(),读作(),
它是由()个千、()个十和()
个一组成的。

2. 2000 里有()个百,130 个十是()。

3. 一袋米重 5(),一瓶矿泉水重 500()。

4. 拧瓶盖是()现象,升国旗是()现象。

5. 16 枝花,平均插在 2 个花瓶里,每瓶插()枝;如果一瓶插 9 枝,另一瓶插()枝。

6. 用 2、6、8、0 这四个数字组成的四位数中,最大的四位数是(),最接近 8000 的数是()。

7. 3 个桃子重 500 克,估一估,25 个桃子大约重()千克。

8. 39 个皮球最少拿走()个,剩下的才能平均分给 7 个班。

9. ●●●○○●●●○○……接着摆黑、白棋子,从左往右数第 36 颗是()棋子。

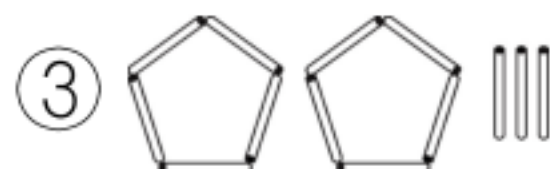
10. 甲、乙、丙三个小朋友进行跳绳比赛,甲和乙都不是最后一
名,乙的成绩比甲好,第一名是()。

二、辨一辨。(对的画“√”,错的画“×”)(4分)

- 1.把 24 个苹果分成 4 份,每份都是 6 个。 ()
- 2.长方形、正方形和平行四边形都是轴对称图形。 ()
- 3.在算盘上用四颗算珠可以拨出 1033 和 5555。 ()
4. $4235 > \star 208$, \star 最大是 4; $\diamond \times 6 < 31$, \diamond 最大是 5。 ()

三、选一选。(将正确答案的序号填在括号里)(10分)

- 1.除法算式 $13 \div 4 = 3 \cdots \cdots 1$ 不能用下面图()来表示。



- 2.一个有余数的除法算式,如果余数是 7,除数可能是()。


① 8

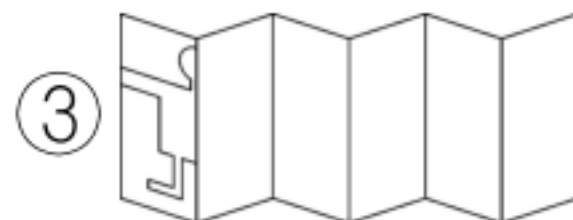
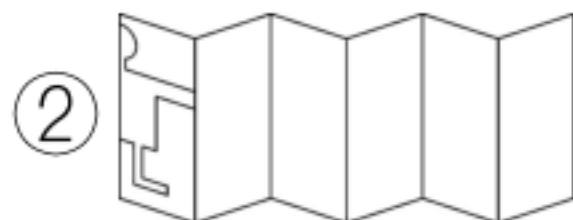
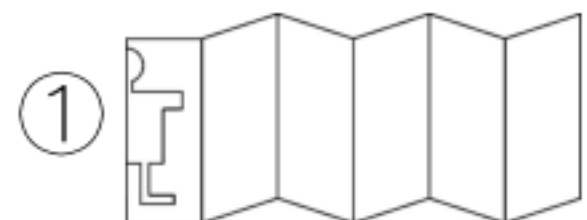
② 7

③ 6

- 3.把 $43 - 36 = 7$, $7 \times 8 = 56$ 合并成一个综合算式是()。

① $7 \times (43 - 36) = 56$ ② $(43 + 36) \times 8 = 56$ ③ $(43 - 36) \times 8 = 56$

- 4.能剪成  的是()。



- 5.常青小学举办文艺汇演,全校观看演出的男生有 329 人,女生有 438 人,选择()个座位的演出厅最合适。

① 700

② 800

③ 900

四、算一算。(共 27 分)

- 1.算一算,填一填。(12分)

$56 \div 7 =$ $48 + 8 =$ $200 + 600 =$ $6 \times () = 42$

$32 - 8 =$ $4 \times 6 =$ $2800 - 800 =$ $() \div 8 = 9$

$40 \div 5 =$ $18 \div 3 =$ $120 - 80 =$ $28 \div () = 4$

2.用竖式计算。(6分)

$38 \div 4 =$

$40 \div 7 =$

$55 \div 9 =$

3.计算下面各题。(9分)

$28 \div 4 \times 3$

$78 + 36 \div 6$

$(26 - 17) \times 9$

五、下面是春风小学植树节植树的情况。(共10分)

种类	松树	柳树	樟树	梧桐树
棵数	正正正正	正正正一	正正正	正正一

1.把统计的结果填入下表。(4分)

种类	松树	柳树	樟树	梧桐树
棵数				

2.春风小学共种植了()棵树。种植的()最多，()最少，它们相差()棵。(6分)

生活运用 (26分)

六、解决问题。(共26分)

1.科技馆这天大约接待游客多少人?(5分)



科技馆上午接待游客893人。

下午接待游客1012人。



2.端午节前,奶奶和妈妈包粽子。(10分)

(1)奶奶包了36个粽子,每5个装在一个盒子里,可以装满几个盒子?需要多少个盒子才能装完这些粽子?

(2)妈妈也包了一些粽子,每6个系一串,系成5串,还剩一些不够再系成一串。妈妈可能包了多少个粽子?

3.




?元/双




24元/条



11元/支



第一支12元
第二支半价



28元/板

(1)一双袜子多少钱?(5分)

买一条毛巾的钱
可以买3双袜子。



(2)妈妈想买4支牙刷,怎么买最划算?(6分)

附加题 (10分)

照下面这样摆下去,第40根火柴棒是用来摆哪种图形的?



bzxz.net

免费文档下载