

苏教版二年级数学下册单位换算专项练习

1. 奶羊每天产奶 2 千克，奶牛每天产奶 6 千克。奶牛每天产奶的千克数是奶羊的几倍？

2. 一支粉笔大约 6 厘米

3. $500\text{克}+500\text{克}=1000\text{克}$ ，也就是 1 千克。_____

4. $4\text{元}+3\text{角}=7\text{角}$ 。（判断对错）

5. 认真计算。

$$17+6+5= \quad 50+27-9= \quad 43-30-8=$$

$$54+(17+3)= \quad 93-(78-70)= \quad 30+(11-3)=$$

$$3\text{元}5\text{角}+4\text{元}=(\quad)\text{元}(\quad)\text{角} \quad 6\text{元}-10\text{角}=(\quad)\text{元}$$

$$6. 1\text{元}=\underline{\quad\quad}\text{角} \quad 40\text{角}=\underline{\quad\quad}\text{元}$$

$$1\text{元}2\text{角}=\underline{\quad\quad}\text{角} \quad 24\text{角}=\underline{\quad\quad}\text{元}\underline{\quad\quad}\text{角}$$

$$76\text{角}=\underline{\quad\quad}\text{元}\underline{\quad\quad}\text{角}$$

7. 将下面的长度按从小到大的顺序排一排。

40 厘米 1 米 1 厘米 10 厘米

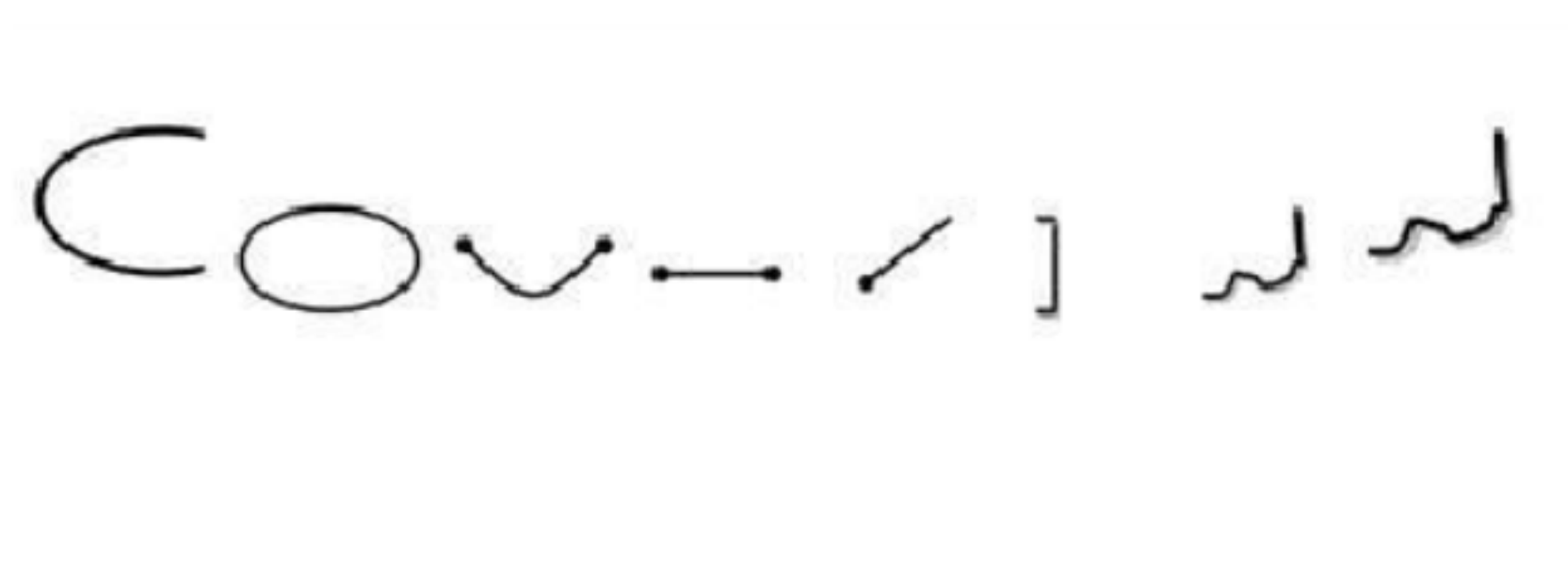
8. 2 袋水泥重 100 ()。

A. 千克

B. 克

C. 无法确定

9. 判断下面图形是否是线段。



10. 在括号里填上“m”或“cm”。
 一张课桌高约 75_____一条黄瓜长 20_____
 教室黑板长约 4_____小明高约 130_____

11. 一个小学生的体重大约是 30()

- A .厘米
- B .千克
- C .克

12. 1 枚 2 分硬币大约重 1_____, 5 个苹果大约重 1_____。

13. 商场购物。



(1) 买一支

(2)


14. 3080 克=_____千克_____克

15. 龙虾游了 100 厘米，小鱼游了 3 米，小鱼比龙虾多游了多少米？

16. 我来当收银员。

购买的物品			
要付的钱数	_____	_____	_____
付出的钱数			
应找回的钱数	_____	_____	_____

17. 比一比下面水果（ ）最重。



- A .青椒
- B .胡萝卜
- C .红萝卜

18. 1 米等于_____厘米

19. 比大小（ ）。
60 厘米○6 米

- A .>
- B .<
- C .=

20. 称物体的质量可以用米尺和天平。_____

21. 先估一估，再量一量。

	数学书封面长	同桌身高	课桌面的周长
估计结果			
实测结果			

22. 在括号里填上合适的质量单位。

（1）填写下列表格

两 个 鸡 蛋 重 100_____	一 个 西 瓜 重 5_____	老虎重 180_____	小猫重 2_____

（2）填写下列表格

--	--	--	--

一袋大米重 50_____	能载货物 4000_____	一头牛重 350_____	一块糖重 25_____
------------------	-------------------	------------------	-----------------


23. 你的椅子大约高()。

A .45 厘米

B .45 米

24. 画一条比 9cm 少 2cm 的线段。

25. 想一想，填一填。

(1) 一张 

(2) 一张

26.

27. 一只足球重()

A .1 吨

B .15 千克

C .500 克

28. 下列错的是() 。

A .1 米 > 20 厘米

B .5 米 > 13 厘米

C .1 米 < 19 厘米

29. 给出的钱能买什么?在能买的商品下面画“√”。

30. 我帮“>”“<”或“=”找位置

5 角_____5 元

6 元_____5 元 9 角

9 元 9 角_____10 元

70 分 _____ 7 元 8 角 8 分 _____ 87 分 1 元 8 角 _____ 18 角

bzxz.net

免费文档下载