

## 期末测试卷 1

### 一、计算。

1.直接写得数。(11分)

$420 \times 2 =$

$125 \times 4 =$

$16 \times 50 =$

$300 \div 6 =$

$720 \div 8 =$

$60 \times 30 =$

$690 \div 23 =$

$421 \times 3 \approx$

$531 \div 9 \approx$

$391 \times 5 \approx$

$246 \div 6 \approx$

2.列竖式计算(带\*的要验算)。(14分)

$*\textcircled{1} 48 \times 72 =$

$\textcircled{2} 206 \times 35 =$

$\textcircled{3} 40 \times 230 =$

$*\textcircled{4} 234 \div 6 =$

$\textcircled{5} 329 \div 7 =$

$\textcircled{6} 395 \div 4 =$

3.用递等式计算:(12分)

$74 + 360 \div 4 \times 7$

$72 \times 23 + 540 \div 60$

$(154 - 89) \times 14 \div 7$

$480 \div (206 - 198)$

4.文字试题:(6分)

① 648 除以 8 的商,乘以 12,积是多少?

② 547 与 23 的和除以 6,商是多少?

### 二、选择。(5分)

(1) 爷爷早晨起床时间是( )。

A. 5: 45      B. 9: 27      C. 15: 45      D. 17: 45

(2) 要使  $345 \times \bigcirc$  的积是一个三位数,  $\bigcirc$  最大是( )。

A. 2      B. 3      C. 4      D. 5

(3) 当除数是最大的两位数时,余数最大是( )。

A. 89      B. 90      C. 98      D. 99

(4) 一根水管锯成两段要 2 分钟,锯成 6 段要( )分钟。

A. 6      B. 10      C. 12      D. 24

(5) 把除数 9 错写成 6,结果得到的商是 30,正确的结果应该是( )。

A. 10      B. 20      C. 30      D. 40

### 三、认真思考，对号入座。(20分)


(1) 400 的 25 倍是 ( ) ( ) 是 25 的 100 倍。

(2) 60 分 = ( ) 秒 144 小时 = ( ) 日

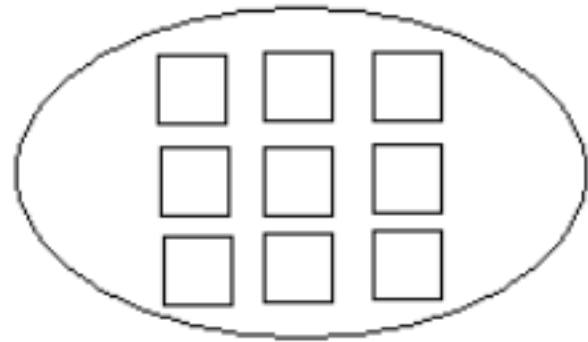
(3) 6000 米 = ( ) 千米 3 吨 = ( ) 千克 5000 平方厘米 = ( ) 平方分米

(4) 7 分米是  $\frac{(\quad)}{(\quad)}$  米，写成小数是 ( ) 米，2 元 5 角是 ( ) 元。

(5) 在每个图里涂色，表示它右边的小数或分数。



0.7



$\frac{2}{3}$



0.5

(6) 你知道吗?

① 2008 年奥运会在北京举行，这一年的二月份有 ( ) 天，全年有 ( ) 天。

② 科技展览馆每上午 8 时开馆，下午 5 时闭馆。每天展览 ( ) 小时。

③ 一本书 8 元钱，王老师带 101 元钱，最多可以买到 ( ) 本书。

④ 一台彩电售价 785 元，买 3 台，大约要花 ( ) 元。

⑤ 2015 年全年有 ( ) 天，第二季度有 ( ) 天。

### 四、只列式，不计算。(12分)

1. 李明平均每分钟走 80 米，从家到学校要走 12 分钟。他家离学校多少米?

列式: \_\_\_\_\_;

2. 王大伯种 5 棵苹果树共收苹果 280 千克，平均每棵收多少千克?

列式: \_\_\_\_\_;

3. 粮店运来面粉 120 袋，运来的大米比面粉的 3 倍少 35 袋，运来大米多少袋?

列式: \_\_\_\_\_;

4. 我校新建的“培园”教学楼有 4 层，每层楼有 9 间教室。如果每间教室能容纳 50 位同学，这座教学楼共可容纳多少位同学?

列式: \_\_\_\_\_。

### 五、解决问题。(20分)

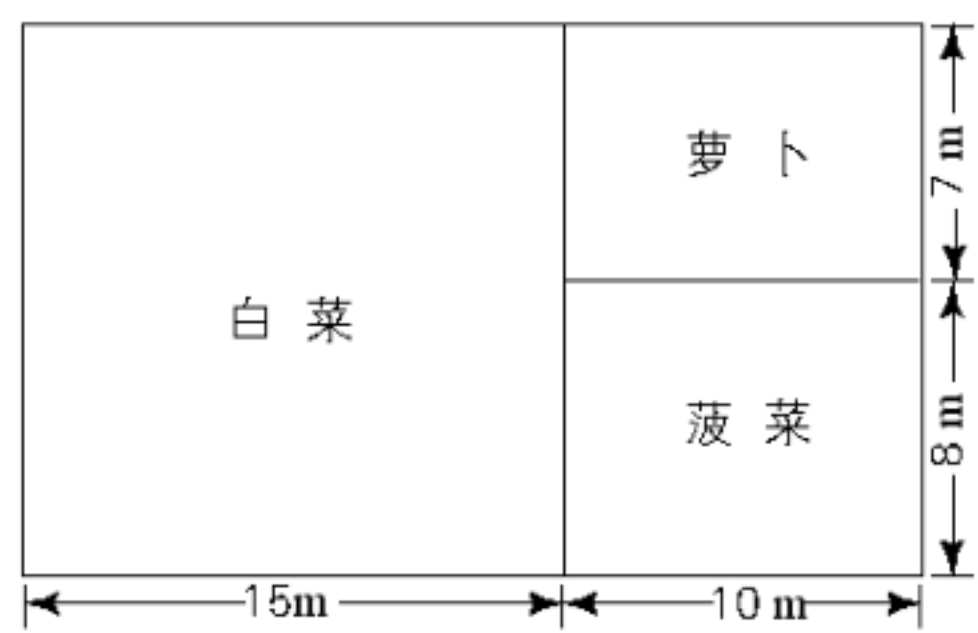
1. 一架客机上午 11:30 从厦门飞往青岛，下午 2:30 到达青岛机场。已知厦门到青岛的航程有 2250 千米，问这架客机平均每小时飞行多少千米?

2. 新华书店运来 540 本《白雪公主》，卖了 10 天，还剩 120 本。平均每天卖多少本?

3. 服装厂为学校加工一批校服，原计划每天加工 36 套，6 天完成。实际加工 8 天才完成，每天加工多少套?

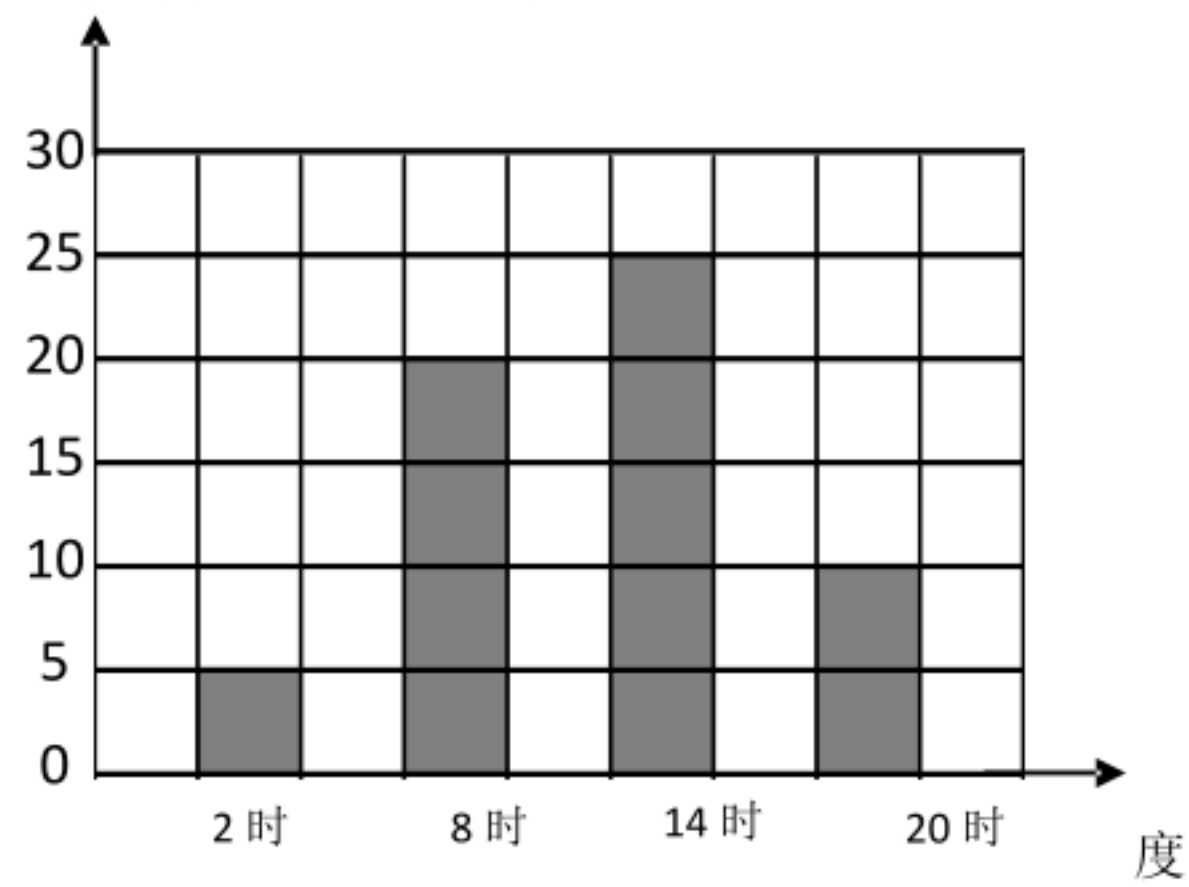


4. 王大伯在一块地里种了三种蔬菜（如图）。



种萝卜的地有多少平方米？  
种菠菜的地有多少平方米？  
种白菜的地有多少平方米

5、下面是气温自测仪上记录的池州市贵池区某天四个不同时间的气温情况：



- (1) 这一天的最高气温是（     ）度，最低气温是（     ）度。最高气温比最低气温高（     ）度。
- (2) 这一天的最高气温在（     ）时？最低气温在（     ）时？

# bzxz.net

免费文档下载