

最新教科版三年级科学下册期中试卷（新版）

班级：_____ 姓名：_____

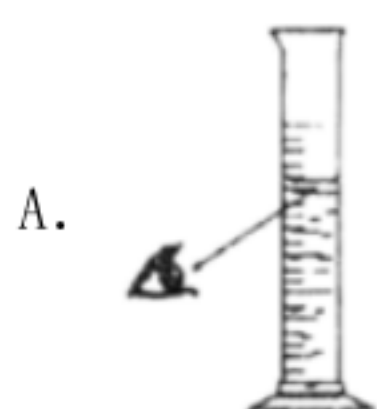
题序	一	二	三	四	五	六	总分
得分							

一、填空题。（共 20 分）

- 1、食盐能够_____在水中，也能从水中_____出来，因此，食盐溶于水的过程是一个_____的过程。
- 2、用_____分离食盐和沙，用_____的方法分离食盐和水。
- 3、所有关于恐龙灭绝的理论都是_____。
- 4、帆船航行是借用_____的力量。
- 5、我们所说的物体的运动，是指这一物体相对于另一个物体来说，它的_____位置发生了变化。
- 6、当两块磁铁互相靠近时，同名磁极互相_____，异名磁极互相_____。
- 7、熄灭酒精灯时要用_____盖灭，不能用_____吹。
- 8、蚕的一生经历了_____、_____、_____、_____四个阶段，每个阶段的外部形态各不相同。
- 9、在实验中，我们可以用多种物品来恢复天平的_____。记录下每一种物品的数量。
- 10、加液体的烧杯口靠引流的_____。引流的玻璃棒末端靠三层滤纸。

二、选择题（每小题 2 分，共 20 分）

- 1、用加热的方法析出浓盐水中的盐，析出的盐跟食盐的区别是（ ）。
A. 大小相同，颜色不同 B. 大小不同，颜色相同
C. 大小不同，颜色不同 D. 大小相同，颜色相同
- 2、使用筛子可把下列（ ）物体分离开来。
A. 木屑和铁屑 B. 盐和沙子 C. 黄豆和绿豆
- 3、下图中，用量筒测量液体体积时，读数正确的是（ ）。



B.

C.

4、记录每天各种天气现象的表格，我们常叫做（ ）。

A. 天气表

B. 气温表

C. 天气日历

5、电工为了保证安全应该使用（ ）。

A. 棉布手套

B. 塑料手套

6、我们通常食用的藕，其实它是植物的_____部分。

A. 根

B. 茎

C. 叶

7、下列哪种水不是地下水形成的？（ ）。

A. 泉水

B. 井水

C. 雨水

8、小明给篮球充气，篮球已经鼓鼓的了，还可以继续充气，是因为（ ）。

A. 空气占据空间

B. 空气有质量

C. 空气可以被压缩

9、蔬菜、水果类食物含有丰富的（ ），是我们保持健康不可缺少的食物。

A. 蛋白质

B. 维生素和无机盐

C. 脂肪

10、下图中的小木块，质量是（ ）。

A. 50 克

B. 4 克

C. 54 克

三、判断题（每小题 2 分，共 20 分）

1、想知道一个物体的冷热程度，用手摸摸就可以了。（_____）

2、植物在生长过程中需要阳光、土壤、适宜的水分和温度等条件。
（_____）

3、斜面上物体的运动情况只与其形状有关。（_____）

4、判断物体运动快慢不需要参照物。（_____）

- 5、鸡蛋不轻易被捏破与它的形状是椭圆状无关。（_____）
- 6、木头有质量，水有质量，空气没有质量。（_____）
- 7、胎生的动物一般都用哺乳的方法喂养小动物。（_____）
- 8、日晷是利用了一天中影子的变化规律来计时。（_____）
- 9、在相同时间内，可以通过测量不同物体运动的距离来比较它们的快慢。（_____）
- 10、风只能给人类带来灾害，不能带来好处。（_____）


四、连线题。（共 10 分）

1、将不同状态的水与它对应的特点连线。

- | | | |
|-----|-------|-------------------|
| ①固态 | A 水 | 有一定的体积和固定形状 |
| ②液态 | B 冰 | 没有固定的体积和形状，存在与空气中 |
| ③气态 | C 水蒸气 | 有一定的体积，但是没有固定的形状 |

五、图形题。（共 12 分）

1、写出蚕宝宝各部分的名称。



六、简答题（每小题 6 分，共 18 分）

1、影子是怎样产生的？

2、并排行使、快慢相同的两辆汽车，是运动还是静止的？

3、能腐烂的垃圾对土壤有什么作用？

参考答案

一、填空题。（共 20 分）

- 1、溶解 分离 可逆
- 2、水 蒸发
- 3、假设
- 4、空气流动
- 5、相对
- 6、排斥 吸引
- 7、灯帽 嘴
- 8、卵 幼虫 蛹 成虫
- 9、平衡
- 10、玻璃棒

二、选择题（每小题 2 分，共 20 分）

- 1、B
- 2、C
- 3、B
- 4、C
- 5、B
- 6、B
- 7、C
- 8、C
- 9、B
- 10、C

三、判断题（每小题 2 分，共 20 分）

- 1、×
- 2、√
- 3、×
- 4、×
- 5、×
- 6、×
- 7、√

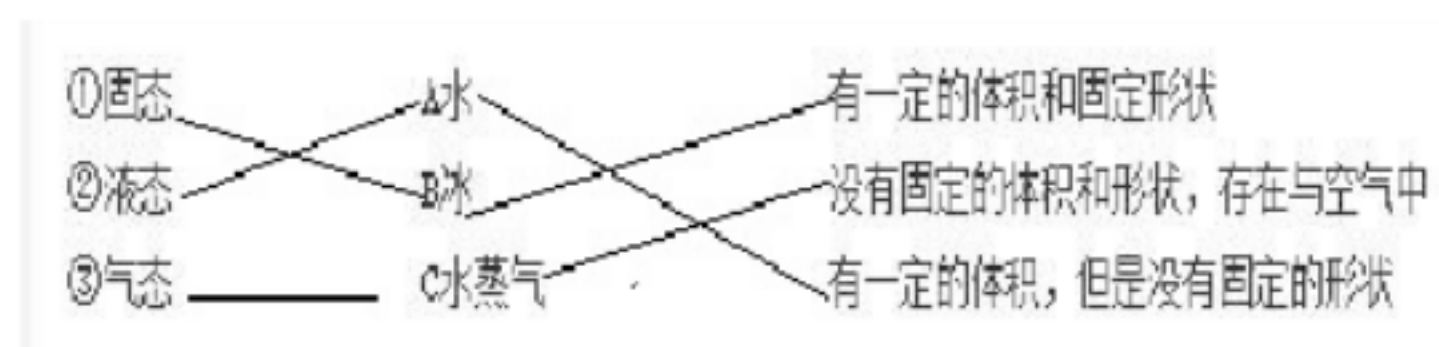
8、√

9、√

10、×

四、连线题。（共 10 分）

1、



五、图形题。（共 12 分）

1、

六、简答题（每小题 6 分，共 18 分）

- 1、影子的产生需要光源、遮挡物、屏(能够呈现影子 的物体，如墙面、地面等)，并且遮挡物要在光源和屏之间。
- 2、如果以路面或路旁的树木为参照物，它们都是运动的。如果以其中一辆汽车为参照物，那么另外一辆是静止的。
- 3、能腐烂的垃圾能给土壤增加营养，还能疏松土壤，使空气和水容易进入土壤，使植物茁壮成长。

bzxz.net

免费文档下载