

# 重点小学四年级期中检测卷

班级: 姓名: 满分: 100 分 考试时间: 90 分钟

题序	第一题	第二题	第三题	第四题	第五题	第六题	总分
得分							

## 一、填空题。(20 分)

- 1.0.23 里面有( )个 0.01;0.451 里面有( )个 $\frac{1}{1000}$ 。
- 一个数由 3 个十,5 个十分之一和 3 个千分之一组成,这个数写作( )。
- 50.080 化简后是( );把 2.3 改写成三位小数是( )。
- 把 2.013 的小数点去掉,这个数就扩大到原来的( )倍;把 10.6 缩小到它的( )是 0.0106。
- 在○里填上 “>” “<” 或 “=”。
 

10.01○9.99

18.03○18.30

23 分米○0.3 米

2.4 吨○2400 千克

148 厘米○1.4 米

125 克○1 千克
- 单位换算。
 

5.35 吨=( )千克

4.2 平方米=( )平方分米

8 米 9 厘米=( )米

350 米=( )千米

- 乘法分配律用字母来表示为 $(a+b) \times c=( )$ 。
- 赤道周长大约是 40075700 米,改写成以 “万” 为单位的数是( )米,再保留一位小数是( )米。

## 二、判断题。(正确的画“□”,错误的画“×”)(5 分)

- $1.274-(74-15)=274-74+15$  ( )
- $2.25+75 \times 3=100 \times 3$  ( )
- 0 除以任何不为 0 的数都得 0。 ( )
- 由 75 个百分之一组成的数读作:零点七十五。( )
- 小数的末尾添上 “0” 或者去掉 “0” ,小数的大小不变。 ( )

## 三、选择题。(把正确答案的序号填在括号里)(4 分)

- 下面哪个式子运用了乘法分配律( )。
 

A. $125 \times (8+2)=125 \times 10$

B. $18 \times a+12 \times a=(18+12) \times a$

C. $25 \times (4 \times 32)=(25 \times 4) \times 32$
- 下面各数中最大的是( )。
 

A.0.549

B.0.505

C.0.550
- 不改变 108 大小,改写成两位小数是( )。
 

A.1.08

B.10.8

C.108.00

4.比 1.7 大比 1.9 小的小数有( )个。

- A.1                      B.9                      C.无数

四、计算题。(26 分)

1.直接写得数。(8 分)

$25 \times 4 \times 2 =$        $15 \times 4 \times 3 =$        $(4 + 2) \times 25 =$        $12 \times 25 =$   
 $8 \times 99 + 8 =$        $0.5 \div 10 =$        $213 - 57 - 43 =$        $28 \div 100 \times 10 =$

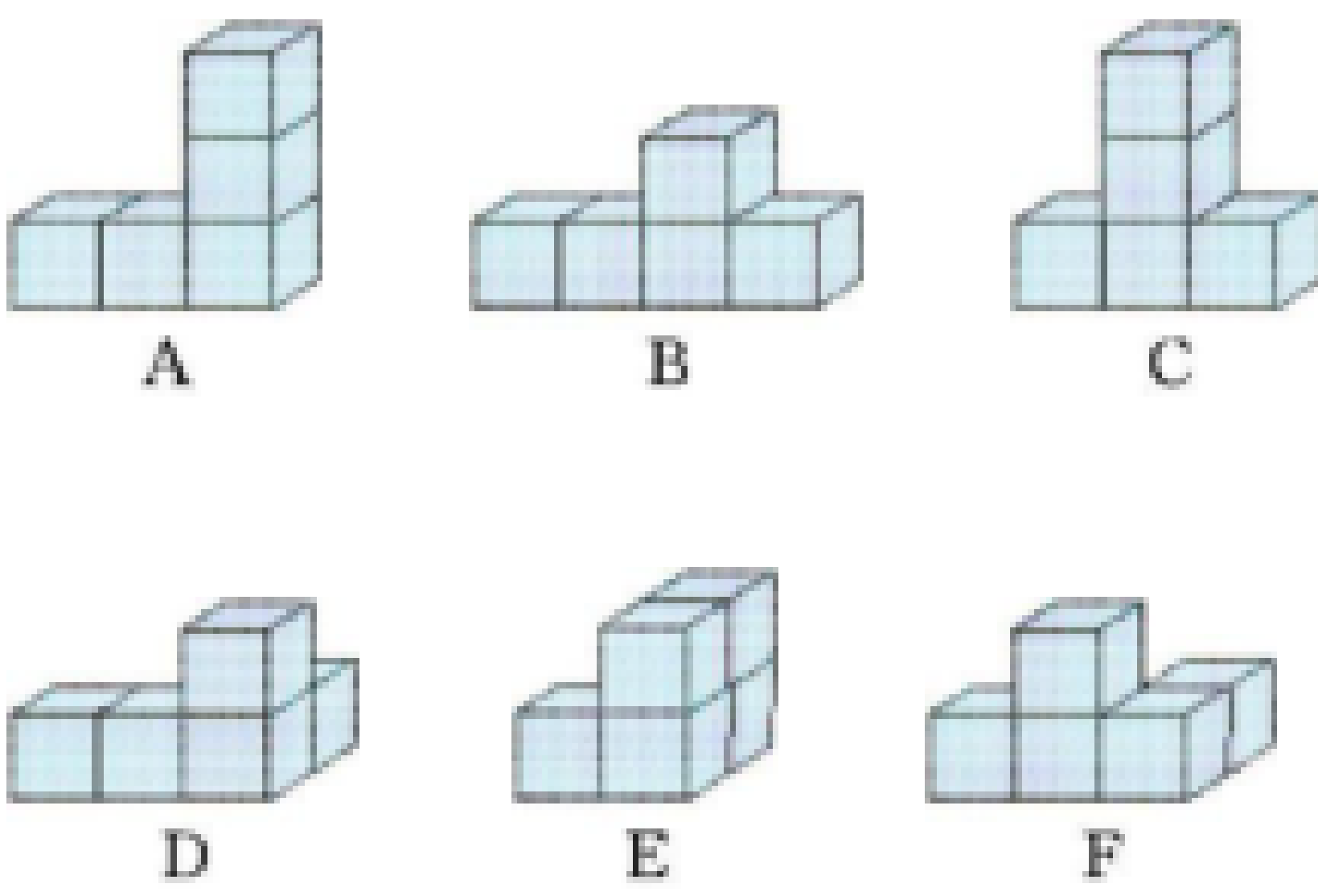
2.下面各题怎样简便就怎样算。(18 分)

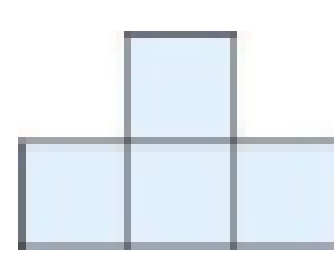


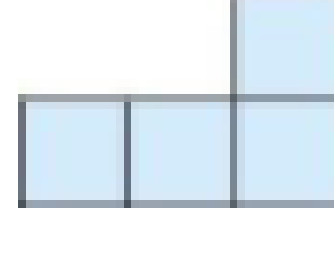
$558 - (135 + 258)$                $4200 \div 25 \div 8$

$25 \times 53 \times 4$                        $84 \times 51 + 49 \times 84$

$98 \times 63$                        $67 \times 49 + 67$

五、下面物体都是由 5 个正方体摆成的。(12 分)



- 1.从前面看到的图形是  的是( )。
- 2.从左面看到的图形是  的有( )。
- 3.从左面看到的图形是  的有( )。
- 4.从上面看到的图形是  的有( )。

六、解决问题。(33 分)

1.4 只大熊猫一天一共要吃 32 千克竹子。照这样计算,原山动物园养了 7 只大熊猫,一天要吃多少千克竹子?(6 分)

2.每人每天大约吃食盐 6 克,某小学共有 350 名师生就餐,按这个标准,一个月(按 30 天)大约需要食盐多少千克?(6 分)

3.学校购买了 90 套桌椅,每张桌子 105 元,每把椅子 95 元。购买这些桌椅一共花了多少钱?(7 分)

4.李阿姨的早餐供应点每天大约售出豆浆 300 杯,每杯豆浆要加白糖 6 克。李阿姨每天要准备白糖多少千克?(7 分)

5.济南野生动物园推出“一日游”的优惠价:

A:成人每人 150 元;儿童每人 60 元

B:团体(5 人或 5 人以上)每人 100 元

现有成人 4 人,儿童 7 人一起去动物园游玩,怎样买票最省钱?最少要花多少钱购买门票?(7 分)

期中检测答案

- 一、 1. 23    451    2. 30. 503    3. 50. 08    2. 300  
4. 1000        5. >   <   >   =   >   <  
6. 5350    420    8. 09    0. 35    7.  $a \times c + b \times c$   
8. 4007. 57 万    4007. 6 万

- 二、 1.        2.  $\times$     3.        4.  $\times$     5.

- 三、 1. B    2. C    3. C    4. C

- 四、 1. 200    180    150    300    800    0. 05    113    2. 8  
2. 165    21    5300    8400    6174    3350

- 五、 1. F    2. A, C    3. D, F    4. D, F

- 六、 1.  $32 \div 4 \times 7 = 56$  (千克)  
2.  $6 \times 350 \times 30 \div 1000 = 63$  (千克)  
3.  $(105 + 95) \times 90 = 18000$  (元)  
4.  $300 \times 6 \div 1000 = 1. 8$  (千克)  
5. 4 个成人与 1 个儿童合成一个团体购买团体票, 其余 6 名儿童购买儿童票最省钱; 最少要花费  $5 \times 100 + 6 \times 60 = 860$  (元)