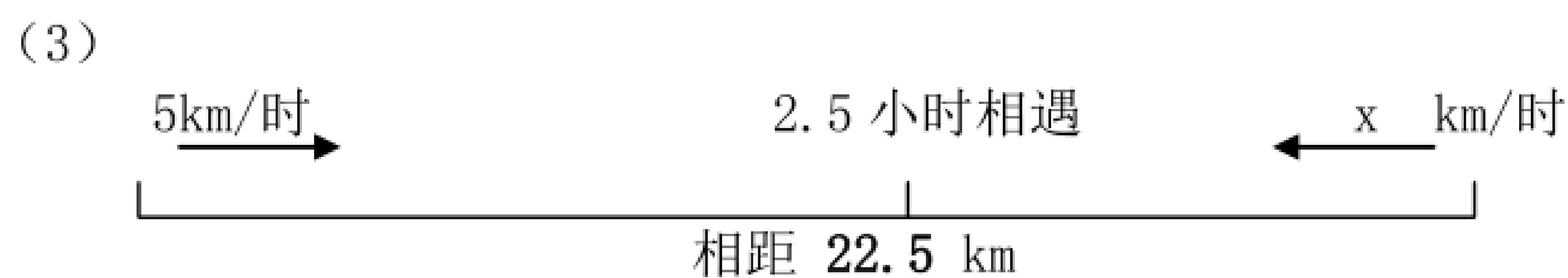
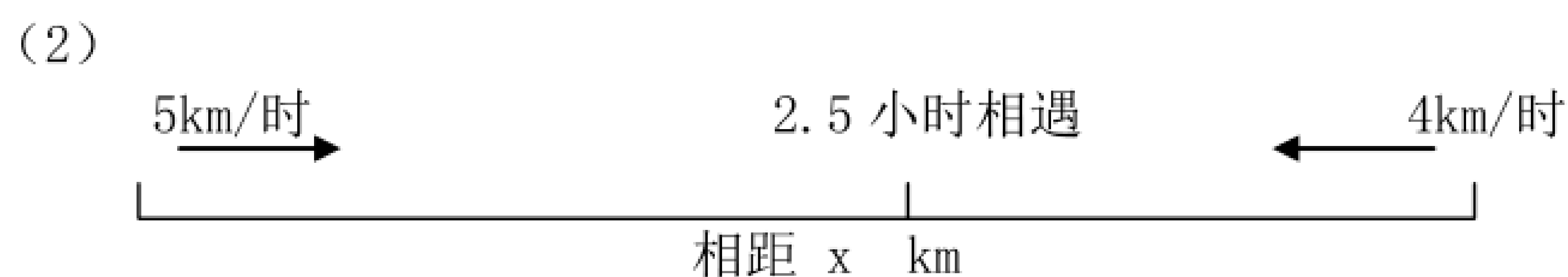
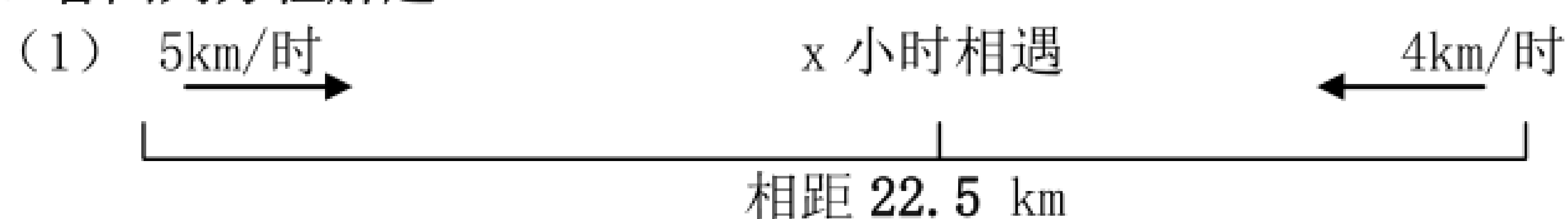


（北京版）四年级数学下册练习

班级_____ 姓名_____

一、看图列方程解题。



二、实践运用。

1. 甲、乙两城相距 504 千米，一列客车和一列货车同时从两城对开。已知客车平均每小时行 60 千米，货车每小时行 84 千米，几小时后两车相遇？

2. 两地相距 85 千米，甲、乙两人骑车同时从两地相对出发，甲每小时行 13.5 千米，经过 3.4 小时后与乙相遇。乙每小时行多少千米？

3. 两个工程队合筑一条路，第一队从东往西，每天筑路 40.5 米，第二队从西往东，每天筑路 35 米。30 天后已筑的公路长多少米？

4. 两辆轿车同时从相距 535.5 千米的甲乙两个城市相向而行。出租车每小时行 48 千米。轿车每小时行 78 千米。几小时后两车还相距 31.5 千米？