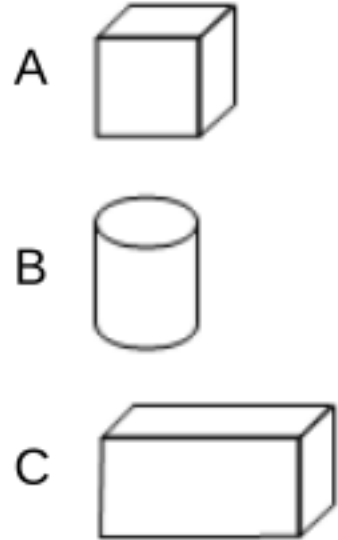




一、单选题：(本题共5个小题，共25分。在每小题给出的选项中，恰有一项是符合题目要求的，请选择正确选项。)

1、聪聪想印出一个长长方方的图案，他不能选择的积木是（ ）



2、如果用  表示的数是“23”，那么下面的图能表示“42”的是（ ）



3、如图可以表示算式（ ）



- A $16 - 7$
- B $16 - 9$
- C $16 - 6$

4、一（1）班有12人参加篮球比赛，现在来了7人，一（2）班来了6人，一（1）班还有几人没有来？题中多余的信息是（ ）

- A 一（2）班来了6人
- B 一（1）班有12人参加篮球比赛
- C 现在来了7人

5、能用算式“ $8 + 5$ ”解决的问题是（ ）

- A 有8本书，看了5本，还有几本没看
- B 有8本故事书，5本漫画书，一共有多少本书
- C 有8本故事书，5本漫画书，再买几本漫画书就和故事书同样多

二、填空题：(本题共9个小题，共45分。根据题目要求，填入最恰当的答案。)

1、算一算。

$7 + 5 = 7 + \underline{\hspace{2cm}} + \underline{\hspace{2cm}}$

$9 + 9 = 9 + \underline{\hspace{2cm}} + \underline{\hspace{2cm}}$

$6 + 8 = 6 + \underline{\hspace{2cm}} + \underline{\hspace{2cm}}$

$8 + 7 = 8 + \underline{\hspace{2cm}} + \underline{\hspace{2cm}}$

2、看图写数。

<u> </u> 个☆	<u> </u>	<u> </u>	<u> </u>

3、56里面有_____个十和_____个一；99再添上1是_____个十，也就是_____。

4、小蜜蜂采花蜜。（填一填）

>

<

=

12-6 _____ 12+6	6+7 _____ 7+6	13-4 _____ 11-6
16-6 _____ 16-8	14-6 _____ 15-7	17-8 _____ 12-8

5、梦梦昨天开始看《汉字的故事》，今天她从第28页开始看，昨天她看到了第 _____页。

6、在横线里填上合适的数。

$6 + \underline{\hspace{2cm}} = 11$

$3 + \underline{\hspace{2cm}} = 63$

$17 - \underline{\hspace{2cm}} = 9$

$\underline{\hspace{2cm}} + 4 = 16 - 4$

$\underline{\hspace{2cm}} - 8 = 14 - 7$

7、和99相邻的两个数是_____和_____。

8、先填一填，再根据加法算式写出两道减法算式。

$6 + 9 = \underline{\hspace{2cm}}$	$\underline{\hspace{2cm}} + 5 = 12$	$8 + \underline{\hspace{2cm}} = 14$
<u> </u>	<u> </u>	<u> </u>
<u> </u>	<u> </u>	<u> </u>

9、找规律，接着画。

_____.....

三、计算题：(本题共1个小题，共5分。根据题目要求，计算出正确结果，并写出计算过程。)

1、脱口而出。

1 $9 + 7 =$

2 $8 + 3 =$

3 $17 - 7 =$

4 $9 + 9 =$

5 $0 + 8 =$

6 $9 - 0 =$

7 $15 - 15 =$

8 $10 + 8 =$

9 $12 - 5 =$

10 $4 + 9 =$

11 $12 + 7 =$

12 $6 + 7 =$

13 $10 - 7 =$

14 $6 + 5 =$

15 $13 - 7 =$

作答区

四、解答题：(本题共6个小题，共30分。根据题目要求，写出文字说明、证明过程或演算步骤。)

1、一共有多少只兔子？



作答区

2、3月12日是植树节，为增强学生爱护树木的意识，老师组织学生参加植树活动。第一小组种了8棵树，第二小组种了11棵树，两个小组一共种了多少棵树？

作答区

3、一共有多少个果子？



作答区

4、给每个小朋友一面旗，还差多少面？



作答区

5、昨天比今天多抬了几桶？



作答区

6、收集废电池。



我收集了
13 节。

蓝蓝

我收集的比
蓝蓝少 7 节。



龙龙

我收集的和
蓝蓝差不多。



梦梦

1 梦梦可能收集了多少节废电池？(在合适的答案下面画“√”)

11节	32节	8节
_____	_____	_____


2 龙龙收集了多少节废电池？

3 蓝蓝和龙龙一共收集了多少节废电池？

作答区

一、单选题

1、【答案】

聪聪想印出一个长长方方的图案，他不能选择的积木是.

故选：B。

2、【答案】

根据分析可知，42应该用4个大圆和2个小圆表示。
故选：C。

3、【答案】

$16 - (6 + 3)$
 $= 16 - 9$
 $= 7$
故选：B。

4、【答案】

一（1）班有12人参加篮球比赛，现在来了7人，一（2）班来了6人，一（1）班还有几人没有来？题中多余的信息是：一（2）班来了6人。
故选：A。



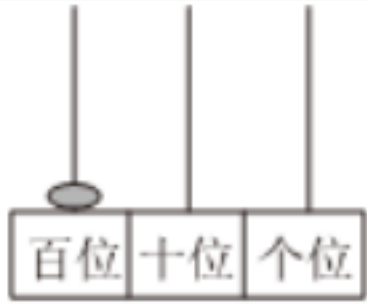
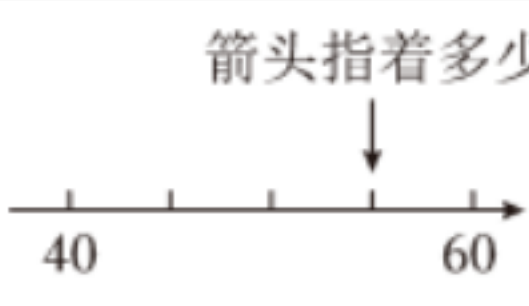
5、【答案】

A.此问题用“8－5”解决，不符合题意；
B.此问题用“8＋5”解决，符合题意；
C.此问题用“8－5”解决，不符合题意。
可以用算式“8＋5”解决的是第二个问题。
故选：B。

二、填空题

1、 $7 + 5 = 7 + 3 + 2 = 12$
 $9 + 9 = 9 + 1 + 8 = 18$
 $6 + 8 = 6 + 4 + 4 = 14$
 $8 + 7 = 8 + 2 + 5 = 15$
故答案为：3，2；1，8；4，4；2，5。

2、

			
24个☆	35	100	55

故答案为：24，35，100，55。

3、56里面有5个十和6个一；99再添上1是10个十，也就是100。
故答案为：5，6；10，100。

4、

--	--	--

$12 - 6 < 12 + 6$	$6 + 7 = 7 + 6$	$13 - 4 > 11 - 6$
$16 - 6 > 16 - 8$	$14 - 6 = 15 - 7$	$17 - 8 > 12 - 8$

故答案为：< , = , > , > , = , >。

5、 $28 - 1 = 27$ (页)

答：昨天她看到了第27页。

故答案为：27。

6、 $6 + 5 = 11$

$3 + 60 = 63$

$17 - 8 = 9$

$8 + 4 = 16 - 4$

$15 - 8 = 14 - 7$

故答案为：5 ; 60 ; 8 ; 8 ; 15。

7、 $99 - 1 = 98$

$99 + 1 = 100$

和99相邻的两个数是98和100。

故答案为：98 , 100。

8、

$6 + 9 = 15$	$7 + 5 = 12$	$8 + 6 = 14$
$15 - 9 = 6$	$12 - 5 = 7$	$14 - 8 = 6$
$15 - 6 = 9$	$12 - 7 = 5$	$14 - 6 = 8$

故答案为：15 ; 7 ; 6 ; $15 - 9 = 6$; $12 - 5 = 7$; $14 - 8 = 6$; $15 - 6 = 9$; $12 - 7 = 5$; $14 - 6 = 8$ 。

9、.....

故答案为： , 。

三、计算题

1、【答案】

$9 + 7 = 16$	$8 + 3 = 11$	$17 - 7 = 10$	$9 + 9 = 18$	$0 + 8 = 8$
$9 - 0 = 9$	$15 - 15 = 0$	$10 + 8 = 18$	$12 - 5 = 7$	$4 + 9 = 13$
$12 + 7 = 19$	$6 + 7 = 13$	$10 - 7 = 3$	$6 + 5 = 11$	$13 - 7 = 6$

四、解答题

1、【答案】

$8 + 7 = 15$ (只)

答：一共有15只兔子。

2、【答案】

$8 + 11 = 19$ (棵)

答：两个小组一共种了19棵树。

3、【答案】

$5 + 9 = 14$ (个)
答：一共有**14**个果子。

4、【答案】
 $11 - 7 = 4$ (面)
答：还差**4**面。

5、【答案】
 $14 - 9 = 5$ (桶)
答：昨天比今天多抬了**5**桶。

6、（1）梦梦可能收集了多少节废电池？(在合适的答案下面画“√”)

11 节	32 节	8 节
√	×	×

(2) $13 - 7 = 6$ (节)
答：龙龙收集了**6**废电池。

(3) $13 + 6 = 19$ (节)
答：蓝蓝和龙龙一共收集了**19**节废电池。

bzxz.net

免费文档下载